

المستوى : الخامسة
المدة: 1 ساو 30د

مقاطعة العبادية (01)
مدرسة بلوة عبد العزيز

اختبار دعم رقم (01) في الرياضيات

التمرين الأول: (1.5 نقطة)

اكمل الجدول التالي :

الأعداد	رقم وحدات الألاف	رقم عشرات الألاف	عدد المئات
175 680
478 236 125

التمرين الثاني: (1.5 نقطة)

حول إلى الوحدة المناسبة

$$45,5 \text{ m} = \dots\dots\dots \text{ cm} = \dots\dots\dots \text{ dam}$$

$$23 \text{ cm} = \dots\dots\dots \text{ m} = \dots\dots\dots \text{ dm}$$

$$145 \text{ dam} = \dots\dots\dots \text{ km} = \dots\dots\dots \text{ m}$$

التمرين الثالث: (1.5 نقطة) :

اكتب الأعداد التالية بالحروف :

127000601 ، 4890006 ، 45261

التمرين الرابع: (1.5 نقطة)

لاحظ المرصوفة التالية :

7							
6							
5				■			
4							
3							
2							
1							
	A	B	C	D	E	F	G

1/ ما هي احداثية النقطة الملونة بالأسود ؟

2/ عين على المرصوفة باللون الأحمر النقطة (E.2) وباللون الأخضر النقطة (C.3)

3/ اذكر احداثية نقطة أخرى بحيث تكون النقطة السوداء والخضراء على استقامة واحدة

ثم مثلها على المرصوفة باللون الأصفر .

الوضعية الإدماجية: (04 نقاط)

غرس فلاح في حقله 65 شجيرة تفاح و78 شجيرة برتقال و35 شجيرة زيتون ، قام بسقي جميع الشجيرات حيث استهلك كل شجيرة 6 لتر من الماء ، وبعد مرور سنة ذبلت 23 شجرة تفاح .

1/ ما هو مجموع الشجيرات التي غرسها الفلاح ؟

2/ ماهي سعة الماء التي استهلكتها الشجيرات ؟

3/ ما هو عدد شجيرات التفاح التي لم تذبل ؟

اختبار دعم رقم (01) في نشاط اللغة العربية

النص

في المساء خرج هشام من المدرسة وبينما هو واقف على الرصيف ينتظر إشارة المرور، وعلى مقربة منه سيارة جاءت منرعة تكاد تدهس أحد الأطفال، فصاح: "خذاري يا صاجب السيارة!" وفي لمح البصر، انقض عليه وأبعده عن وسط الطريق، ووبخ سائق السيارة كثيرا قائلا له: أين كان عقلك؟ كنت تقتل الطفل. (حضر الأستاذ هذه الحادثة وفي يوم الغد شكر هشامًا ومدحه وحيأه كثيرا) ، وقص المغامرة على زملائه وكيف غامر بحياته وأنقذ الطفل. قال التلاميذ: "بوركت يا هشام"، وقاطعهم الأستاذ قائلا: "أجل يا تلاميذ فإني أتمنى أن تكونوا مثل هشام".

أسئلة الفهم: (3ن)

- 1/ ما هو العمل الذي قام به هشام؟
- 2/ هات مرادف الكلمة التالية ثم وظيفها في جملة من انشائك : ويخ .
- 3/ هات عنوان مناسب للنص .
- 4/ أكمل باستخدام الصيغة : بل
لم يبق هشام مكتوف الأيدي

أسئلة اللغة: (3ن)

- 1/ اعرّب ما تحته خط في النص .
- 2/ استخرج من النص: جملة فعلية .
- 3/ لماذا كتبت التاء مربوطة في كلمة : الحادثة .
- 4/ حول الجملة الموجودة ما بين قوسين في النص الى الجمع

الوضعية الإدماجية: (4ن)

في أحد الأيام أنقذت طفلا صغيرا سقط في حفرة عميقة ولم يستطع الخروج منها .
اكتب فقرة من 8 الى 12 سطرا تتكلم فيه عن كيفية قيامك بهذا العمل الانساني موظفا جملة اسمية .

التصحيح النموذجي لاختبار الدعم (01) في نشاط اللغة العربية

العلامة مج	العلامة كاملة	الأجوبة النموذجية														
0.5 للجراب الأول 1 للشرح 0.5 للعنوان 0.5 استعمال للصيغة	3 نقاط	<p>أ / أجوبة الفهم :</p> <p>1/ العمل الذي قام به هشام هو انقاذ الطفل الصغير .</p> <p>2/ شرح الكلمة وتوظيفها في جملة مفيدة :</p> <table border="1"> <tr> <td>الكلمة</td> <td>مرادفتها</td> <td>توظيفها في جملة</td> </tr> <tr> <td>وبخ</td> <td>لام</td> <td>وبخ أبي أخي بسبب سلوكه السيء</td> </tr> </table> <p>3/ عنوان النص هو : النطل هشام ، انقاذ الطفل الصغير</p> <p>4/ استخدام صيغة بل : لم يبق هشام مكتوف الأيدي بل انقذ الطفل من السيارة .</p>	الكلمة	مرادفتها	توظيفها في جملة	وبخ	لام	وبخ أبي أخي بسبب سلوكه السيء								
الكلمة	مرادفتها	توظيفها في جملة														
وبخ	لام	وبخ أبي أخي بسبب سلوكه السيء														
0.25 للاستخراج 1.5 للإعراب 0.25 لتعليل رسم الهمزة 0.25 لكل كلمة محولة تحويلا صحيح	3 نقاط	<p>ب/ أجوبة اللغة :</p> <p>1/ الاعراب</p> <table border="1"> <tr> <td>الكلمة</td> <td>اعرابها</td> </tr> <tr> <td>هشام</td> <td>فاعل مرفوع وعلامة رفعه الضمة الظاهرة على آخره</td> </tr> <tr> <td>جاءت</td> <td>فعل ماض مبني على الفتح وتاء التانيث الساكنة لا محل لها من الاعراب</td> </tr> <tr> <td>المغامرة</td> <td>مفعول به منصوب وعلامة نصبه الفتحة الظاهرة على آخره</td> </tr> </table> <p>2/ استخراج جملة فعلية : خرج هشام من المدرسة ، جاءت مسرعة ، وبخ سائق السيارة كثيرا ، وقص المغامرة على زملائه</p> <p>3/ سبب كتابة التاء :</p> <table border="1"> <tr> <td>الكلمة</td> <td>نوع التاء</td> <td>التعليل</td> </tr> <tr> <td>الحادثة</td> <td>تاء مربوطة</td> <td>اسم مفرد مؤنث</td> </tr> </table> <p>4/ التحويل الى الجمع :</p> <p>حضر الأستاذة هذه الحادثة وفي يوم الغد شكروا هشاماً ومنحوه وحيوه كثيرا</p>	الكلمة	اعرابها	هشام	فاعل مرفوع وعلامة رفعه الضمة الظاهرة على آخره	جاءت	فعل ماض مبني على الفتح وتاء التانيث الساكنة لا محل لها من الاعراب	المغامرة	مفعول به منصوب وعلامة نصبه الفتحة الظاهرة على آخره	الكلمة	نوع التاء	التعليل	الحادثة	تاء مربوطة	اسم مفرد مؤنث
الكلمة	اعرابها															
هشام	فاعل مرفوع وعلامة رفعه الضمة الظاهرة على آخره															
جاءت	فعل ماض مبني على الفتح وتاء التانيث الساكنة لا محل لها من الاعراب															
المغامرة	مفعول به منصوب وعلامة نصبه الفتحة الظاهرة على آخره															
الكلمة	نوع التاء	التعليل														
الحادثة	تاء مربوطة	اسم مفرد مؤنث														
1.5 ن للمطلوب نقطة واحدة للتوظيف و0.25 لكل خطوة من الخطوات المنبغية	4 نقاط	<p>ج/ الوضعية الإدماجية :</p> <ul style="list-style-type: none"> - أن يكتب المتعلم قفزة من 08 إلى 12 سطرا . - أن تكون الأفكار مترابطة . - أن لا يخرج عن الموضوع أو يعيد كتابة النص . - يتحدث عن إنقاذه للطفل من الحفرة . - أن يوظف المتعلم علامات الوقف وبياض الفقرات . - أن يوظف المتعلم الشواهد (آية ، حديث ، حكمة) . - توظيف جملة اسمية . 														

التصحيح النموذجي لاختبار الدعم رقم (01) في نشاط الرياضيات

العلامة تأ	العلامة كاملة	حلول التمارين المقدمة																																																																
0.25 لكل إجابة صحيحة	1.5	<p>التمرين الأول : ملء الجدول :</p> <table border="1"> <thead> <tr> <th>الأعداد</th> <th>رقم وحدات الألاف</th> <th>رقم عشرات الألاف</th> <th>عدد المئات</th> </tr> </thead> <tbody> <tr> <td>175 680</td> <td>5</td> <td>7</td> <td>1 756</td> </tr> <tr> <td>478 236 125</td> <td>6</td> <td>3</td> <td>4 782 361</td> </tr> </tbody> </table>	الأعداد	رقم وحدات الألاف	رقم عشرات الألاف	عدد المئات	175 680	5	7	1 756	478 236 125	6	3	4 782 361																																																				
الأعداد	رقم وحدات الألاف	رقم عشرات الألاف	عدد المئات																																																															
175 680	5	7	1 756																																																															
478 236 125	6	3	4 782 361																																																															
0.25 لكل إجابة صحيحة	1.5	<p>التمرين الثاني : التحويل إلى الوحدة المناسبة</p> <p>45,5 m = 455 cm = 4,55dam 23cm = 0,23m = 2,3dm 145 dam = 1,45 km = 1450m</p>																																																																
0.25 لكل خطوة صحيحة	1.5	<p>التمرين الثالث : كتابة الأعداد التالية بالحروف :</p> <p>45261 : خمسة وأربعون ألفاً ومائتان وواحد وستون 4890006 : أربعة ملايين وثمانمائة وتسعون ألفاً وستة 127000601 : مائة وسبعة وعشرون مليوناً وستمائة وواحد</p>																																																																
0.5 للإجابة الأولى و 0.25 لكل إجابة أخرى صحيحة	1.5	<p>التمرين الرابع :</p> <p>1/ احداثية النقطة الملونة بالأسود هي : (E , 5) 2/ إجابة واحدة من الإجابات التالية : (A , 1) أو (B , 2) أو (D , 4) أو (F , 6) أو (G , 7)</p> <table border="1"> <tbody> <tr><td>7</td><td></td><td></td><td></td><td></td><td></td><td></td><td></td></tr> <tr><td>6</td><td></td><td></td><td></td><td></td><td></td><td></td><td></td></tr> <tr><td>5</td><td></td><td></td><td></td><td>■</td><td></td><td></td><td></td></tr> <tr><td>4</td><td></td><td></td><td>■</td><td></td><td></td><td></td><td></td></tr> <tr><td>3</td><td></td><td>■</td><td></td><td></td><td></td><td></td><td></td></tr> <tr><td>2</td><td></td><td></td><td></td><td>■</td><td></td><td></td><td></td></tr> <tr><td>1</td><td></td><td></td><td></td><td></td><td></td><td></td><td></td></tr> <tr><td></td><td>A</td><td>B</td><td>C</td><td>D</td><td>E</td><td>F</td><td>G</td></tr> </tbody> </table>	7								6								5				■				4			■					3		■						2				■				1									A	B	C	D	E	F	G
7																																																																		
6																																																																		
5				■																																																														
4			■																																																															
3		■																																																																
2				■																																																														
1																																																																		
	A	B	C	D	E	F	G																																																											

الوضعية الإدماجية :

		<u>العمليات</u>	<u>الحل</u>	<u>الأجوبة</u>
0.5 لكل عملية عمودية صحيحة	4 نقاط	$\begin{array}{r} 65 \\ + 78 \\ + 35 \\ \hline =178 \end{array}$		1/ عدد الشجيرات التي غرسها الفلاح هي : 178 شجيرة $65 + 78 + 35 = 178$
0.5 و لكل عملية افقية صحيحة		$\begin{array}{r} 178 \\ \times 6 \\ \hline =1068 \end{array}$		1/ سعة الماء التي استهلكتها الشجيرات هي : 1068 لتر $178 \times 6 = 1068 \text{ L}$
0.25 و لكل عنوان إجابة صحيح		$\begin{array}{r} 65 \\ - 23 \\ \hline = 42 \end{array}$		3/ عدد شجيرات التفاح التي تذبل هو : 42 شجيرة $65 - 23$
0.25 للتنظيم				

اختبار دعم رقم (02) في نشاط الرياضيات

التمرين الأول: (1.5 نقطة)

اليك الأعداد الطبيعية التالية :

12453 - 120365 - 516364 - 53214

1/ ما هي مرتبة الرقم 5 في كل عدد ؟ .

2/ رتب هذه الأعداد تصاعديا .

التمرين الثاني: (1.5 نقطة)

صنف الأعداد التالية في الجدول :

6455 ، 1052 ، 6111 ، 4401 ، 3008 ، 3415 .

مضاعفات العدد 3	مضاعفات العدد 2	مضاعفات العدد 5
.....

التمرين الثالث: (1.5 نقطة) :

في منافسة الألعاب المدرسية قطع المتسابقون في سباق العدو مسافة 10 دورات بحيث أن طول الدورة الواحدة هو 450 متر .

1/ احسب المسافة التي قطعها المتسابقون .

2/ عبّر عن هذه المسافة بالكيلومتر .

التمرين الرابع: (1.5 نقطة)

- ارسم نصف مستقيم [A] .

- عين على نصف المستقيم [A] النقطتين B و O البعد بينهما 6 cm .

- عين F منتصف القطعة المستقيمة OB .

- استخرج ثلاثة قطع مستقيمة من الشكل .

الوضعية الإدماجية: (04 نقاط)

أعطى الأب لابنه أحمد مبلغا من المال ، اشترى منه 3 قصص سعر الواحدة 250 DA و لعبة

لأخيه الصغير سعرها 650 DA .

• 1/ ما هو الثمن الاجمالي للقصص ؟

• 2/ ما هو المبلغ الكلي الذي صرفه أحمد ؟

بقي له مبلغ قدره 100 DA .

• 3/ ما هو المبلغ الذي أعطاه الأب لأحمد ؟

اختبار دعم رقم (02) في اللغة العربية

النص :

ذهب طارق إلى حديقة قريبة كى ينتزعه و يجمع ناقة من الأزهار . فرأى نحلة تطير من وردة إلى أخرى ، (فجزى وراءها من مكان إلى آخر ، وظن أنها لا تعمل عملا .) غاد طارق إلى بيتيه وهو يفكر في ذلك . فقال لأبيه : " رأيت يا أبى نحلة تطير فرحة سعيدة ، فليتني مثلها أعيث من غير مدرسة أو عمل ، و ارتاح من القراءة و الكتابة " فقالت له أمه : " أنت مخطئ يا طارق ، فالنحلة تعمل دائبة طول النهار و لا تُفكر في الراحة ، فهي تجمع العسل صيفا لتتغذى به شتاء .

أسئلة الفهم : (3ن)

1- ما الذي ظنه طارق عندما رأى النحلة تطير من وردة إلى أخرى ؟

2- رتب الأفكار حسب تسلسلها معتمدا على النص :

○ شاهد النحلة تطير من وردة لأخرى .

○ ليتني ارتاح من القراءة و الكتابة .

○ ذهب طارق ليتنزّه .

○ النحلة تعمل دائبة .

3- هات أضداد الكلمتين التاليتين من النص : حزينه ، التعب .

أسئلة اللغة : (3ن)

4- اعرب ما تحته خط في النص .

5- استخرج من النص : جملة فعلية ، مفعول به ، ضمير منفصل .

6- حول العبارة بين قوسين إلى المفردة المؤنثة .

7- علل سبب كتابة الهمزة في كلمة : رأى .

الوضعية الإدماجية : (4ن)

بدأت في التحضير لامتحان شهادة التعليم الابتدائي بكل حيوية ونشاط .

اكتب فقرة لا تزيد عن 10 أسطر تتحدث فيها عن طريقة تحضيرك لهذا الامتحان وكيف تحفزك عائلتك

من أجل أن تحقق النجاح موظفا جمعا مؤنثا سالما مسطرا تحته .

التصحيح النموذجي لاختبار الدعم رقم (02) في نشاط الرياضيات

العلامة بالتفصيل	العلامة كاملة	حلول التمارين المقدمة												
0.25 لكل إجابة صحيحة	1.5	<p><u>التمرين الأول :</u> 1/ تحديد مرتبة الرقم 5 في كل عدد</p> <table border="1"> <thead> <tr> <th>العدد</th> <th>مرتبة الرقم 5</th> <th>العدد</th> <th>مرتبة الرقم 5</th> </tr> </thead> <tbody> <tr> <td>12453</td> <td>العشرات</td> <td>516364</td> <td>مئات الآلاف</td> </tr> <tr> <td>120365</td> <td>الوحدات</td> <td>53214</td> <td>عشرات الآلاف</td> </tr> </tbody> </table> <p>2/ ترتيب هذه الأعداد تصاعدياً : → 12453 < 53214 < 120365 < 516364 .</p>	العدد	مرتبة الرقم 5	العدد	مرتبة الرقم 5	12453	العشرات	516364	مئات الآلاف	120365	الوحدات	53214	عشرات الآلاف
العدد	مرتبة الرقم 5	العدد	مرتبة الرقم 5											
12453	العشرات	516364	مئات الآلاف											
120365	الوحدات	53214	عشرات الآلاف											
0.25 لكل إجابة صحيحة	1.5	<p><u>التمرين الثاني :</u> <u>تصنيف الأعداد في الجدول :</u></p> <table border="1"> <thead> <tr> <th>مضاعفات العدد 5</th> <th>مضاعفات العدد 2</th> <th>مضاعفات العدد 3</th> </tr> </thead> <tbody> <tr> <td>3415 ، 6455</td> <td>3008 ، 1052</td> <td>4401 ، 6111</td> </tr> </tbody> </table>	مضاعفات العدد 5	مضاعفات العدد 2	مضاعفات العدد 3	3415 ، 6455	3008 ، 1052	4401 ، 6111						
مضاعفات العدد 5	مضاعفات العدد 2	مضاعفات العدد 3												
3415 ، 6455	3008 ، 1052	4401 ، 6111												
0.25 لكل خطوة صحيحة	1.5	<p><u>التمرين الثالث :</u> <u>الأجوبة</u></p> <p>1/ المسافة التي قطعها المتسابقون هي : 4500 متر</p> <p>$450 \times 10 = 4500 \text{ m}$</p> <p>2/ المسافة التي قطعها المتسابقون بالكيلومتر هي : 4.5 كيلومتر $4500 \text{ m} = 4.5 \text{ km}$</p>												
0.75 للرسم و 0.25 لكل قطعة مستقيمة صحيحة	1.5	<p><u>التمرين الرابع :</u></p>  <p>القطع المستقيمة الموجودة في الشكل هي : [OF] [OB] [AF] [AO] [AB] [FB] يذكر التلميذ ثلاثة قطع مستقيمة من القطع السابقة</p>												

الوضعية الإدماجية :

		<u>الحل</u>	<u>الأجوبة</u>
0.5 لكل عملية عسودية صحيحة		$\begin{array}{r} 250 \\ \times 3 \\ \hline \end{array}$	1/ ثمن القصص هو : 750 دينار $250 \times 3 = 750 \text{ DA}$
0.5 و لكل عملية افقية صحيحة	4 نقاط	$\begin{array}{r} 750 \\ + 650 \\ \hline = 1400 \end{array}$	2/ المبلغ الذي صرفه أحمد هو : 1400 دينار $750 + 650 = 1400 \text{ DA}$
0.25 و لكل عنوان إجابة صحيح		$\begin{array}{r} 1400 \\ + 100 \\ \hline = 1500 \end{array}$	3 / المبلغ الذي أعطاه الأب لأحمد هو : 1500 دينار $1400 + 100 = 1500 \text{ DA}$
0.25 للتنظيم			

التصحيح النموذجي لاختبار الدعم (02) في نشاط اللغة العربية

العلامة مفصلة	العلامة كاملة	الأجوبة النموذجية																				
01 للجواب الأول 01 لترتيب الأفكار 0.5 لكل ضد صحيح	3 نقاط	<p><u>أ / أجوبة الفهم :</u></p> <p>1/ ظن طارق أن النحلة تلعب و لا تعمل أي عمل .</p> <p>2/ ترتيب الأفكار حسب النص :</p> <p>○ ذهب طارق ليتنزه.</p> <p>○ شاهد النحلة تطير من وردة لأخرى.</p> <p>○ لييتني أرتاح من القراءة و الكتابة.</p> <p>○ النحلة تعمل دائية .</p> <p><u>3/ أزداد الكلمات :</u></p> <table border="1"> <tr> <td>الكلمة</td> <td>ضدها</td> </tr> <tr> <td>حزينة</td> <td>سعيدة</td> </tr> <tr> <td>التعب</td> <td>الراحة</td> </tr> </table>	الكلمة	ضدها	حزينة	سعيدة	التعب	الراحة														
الكلمة	ضدها																					
حزينة	سعيدة																					
التعب	الراحة																					
1.5 للإعراب 0.25 لكل استخراج صحيح 0.25 لتعليل رسم الهمزة 0.25 لكل كلمة محولة تحويلًا صحيح	3 نقاط	<p><u>ب/ أجوبة اللغة :</u></p> <p><u>1/ الاعراب</u></p> <table border="1"> <tr> <td>الكلمة</td> <td>اعرابها</td> </tr> <tr> <td>ذهب</td> <td>فعل ماضٍ مبني على الفتح .</td> </tr> <tr> <td>سعيدة</td> <td>صفة منصوبة وعلامة نصبها الفتحة الظاهرة على آخرها .</td> </tr> <tr> <td>الراحة</td> <td>اسم مجرور بفي وعلامة جره الكسرة الظاهرة على آخره .</td> </tr> </table> <p><u>2/ الاستخراج من النص :</u></p> <table border="1"> <tr> <td>جملة فعلية</td> <td>مفعول به</td> <td>ضمير منفصل</td> </tr> <tr> <td>تطير من وردة إلى أخرى .</td> <td>باقة</td> <td>أنت</td> </tr> </table> <p><u>3/ التحويل إلى المفردة المؤنثة :</u></p> <p>فجرت وراءها من مكان إلى آخر ، وظننت أنها لا تعمل عملاً .</p> <p><u>4/ تعليل كتابة الهمزة :</u></p> <table border="1"> <tr> <td>الكلمة</td> <td>نوع الهمزة</td> <td>التعليل</td> </tr> <tr> <td>رأى</td> <td>همزة متوسطة على الألف</td> <td>لأنها مفتوحة بعد فتح</td> </tr> </table>	الكلمة	اعرابها	ذهب	فعل ماضٍ مبني على الفتح .	سعيدة	صفة منصوبة وعلامة نصبها الفتحة الظاهرة على آخرها .	الراحة	اسم مجرور بفي وعلامة جره الكسرة الظاهرة على آخره .	جملة فعلية	مفعول به	ضمير منفصل	تطير من وردة إلى أخرى .	باقة	أنت	الكلمة	نوع الهمزة	التعليل	رأى	همزة متوسطة على الألف	لأنها مفتوحة بعد فتح
الكلمة	اعرابها																					
ذهب	فعل ماضٍ مبني على الفتح .																					
سعيدة	صفة منصوبة وعلامة نصبها الفتحة الظاهرة على آخرها .																					
الراحة	اسم مجرور بفي وعلامة جره الكسرة الظاهرة على آخره .																					
جملة فعلية	مفعول به	ضمير منفصل																				
تطير من وردة إلى أخرى .	باقة	أنت																				
الكلمة	نوع الهمزة	التعليل																				
رأى	همزة متوسطة على الألف	لأنها مفتوحة بعد فتح																				
1.5 للمطلوب نقطة واحدة للتوظيف 0.25 لكل خطوة من الخطوات المتبقية	4 نقاط	<p><u>ج/ الوضعية الإدماجية :</u></p> <ul style="list-style-type: none"> - أن يكتب المتعلم فقرة لا تزيد عن 10 أسطر . - أن لا يخرج عن الموضوع أو يعيد كتابة النص . - يتحدث عن كيفية تحضيره للشهادة وتشجيع عائلته له . - أن يوظف المتعلم علامات الوقف وبياض الفقرات . - أن يوظف المتعلم الشواهد (آية ، حديث ، حكمة) . - توظيف جمع مؤنث سالم . 																				

اختبار دعم رقم (03) في نشاط الرياضيات

التمرين الأول : 1.5 نقطة

صحح الأخطاء فيما يلي :

- 7 203 698 رقم المئات هو 3 و عدد الآلاف هو : 263 .

- 784 193 265 رقم الآلاف هو 4 و عدد الملايين هو 7 .

- 14 987 630 رقم الملايين هو 1 و عدد العشرات هو 14 .

التمرين الثاني : 1.5 نقطة :

فكك الأعداد التالية :

$$100\ 245\ 005 = \dots\dots\dots$$

$$7\ 200\ 107 = \dots\dots\dots$$

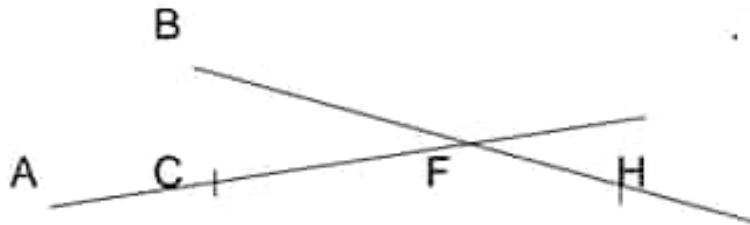
$$25\ 910\ 304 = \dots\dots\dots$$

التمرين الثالث : 1.5 نقطة

اشترى بائع الورود 125 وردة بثمن 750 دينار للوردة الواحدة .

- ما هو ثمن شراء كل الورود ؟ .

التمرين الرابع : 1.5 نقطة



- استخراج المستقيمت الموجودة في الشكل .

- استخراج القطع المستقيمة الموجودة في الشكل .

الوضعية الإدماجية : (4 نقاط)

قام مدير مدرستنا بشراء 12 جهاز اعلام آلي ، ثمن كل جهاز 45000 دينار

1/ ما هو ثمن شراء الأجهزة ؟

قام ببرمجتها حيث بلغت تكلفة برمجة الجهاز الواحد بـ 350 دينار .

2/ ما هو ثمن البرمجة ؟

قام ايضا بكراء شاحنة بـ 850 دينار لإيصال هذه الأجهزة من محل البيع الى المدرسة .

3/ ما هي التكلفة الكلية للأجهزة ؟

اختبار دعم رقم (03) في نشاط اللغة العربية

النص

أنا مُعجَبٌ بالإتقان ، وأُحسِبُ أن العَمَلَ المُتَقَنَ أساسُ كُلِّ تَطَوُّرٍ ، (والمُتَقِنُونَ هُمُ الَّذِينَ يُجِبُّونَ أَعْضَالَهِمْ فَيُلْجِحُونَ إِلَى حَدِّ بَعِيدٍ) ، أَعْرِفُ صَانِعَ الْأَحْذِيَّةِ ، يُقَدِّرُهُ النَّاسُ تَقْدِيرًا كَبِيرًا ، لِأَنَّهُ يَزْعُجُ فِي عَمَلِهِ بِزَاعَةَ مُدْهِنَةً ، وَأَتَقَنُ صَنْعَتَهُ اتِّقَانًا جَلِيًّا إِلَيْهِ الرِّبَانِينَ الْكَثْرِينَ ، وَلَقَدْ أَرَدْتُ أَنْ أُخْتَبِرَ سِرَّ نَجَاحِهِ ، فَزَاقْتُهُ يَوْمًا فِي أَثْنَاءِ عَمَلِهِ ، فَزَاقْتُهُ إِذَا سَزَعُ فِي عَمَلِهِ ، انصرفت إِلَيْهِ دُونَ الْأَكْتِرَاتِ لِمَا يَدُورُ حَوْلَهُ ، فَلَا السِّبْيَاةَ تُشغَلُهُ وَلَا صِرَاحَ الْبَاغَةِ يَضْجُرُهُ ، وَإِنَّمَا هُمُ أَنْ يَظْهَرَ الْجَدَاءُ بِمَظْهَرٍ جَمِيلٍ مُتَقِنٍ لَا غَيْبَ فِيهِ .

أسئلة الفهم : (3ن)

- 1- كيف كان يعمل صانع الأحذية ؟
- 2- استخرج من النص العبارة التي تدل أن صوت الباعة كان لا يزعج صانع الأحذية .
- 3- اشرح الكلمات التالية ثم وظيف كل واحدة منها في جملة مفيدة من انشائك : يقدره ، شرع .
- 4- ضع عنواناً مناسباً للنص .

أسئلة اللغة : (3ن)

- 1- استخرج من النص : جمع مذكر سالم .
- 2- اعرب ما تحته خط في النص .
- 3- علل سبب كتابة الهمزة في كلمة : مؤوثة .
- 4- حول العبارة بين قوسين الى المثني .

الوضعية الإدماجية : (4ن)

إنَّ العَمَلَ وَاتِّقَانَهُ عِبَادَةٌ وَهُوَ أَسَاسُ ازْدِهَارِ وَتَقَدُّمِ الْبُلْدَانِ

اكتب موضوعاً لا يزيد عن عشرة أسطر تتحدث فيه عن العمل وكيفية اتقانه والفائدة من ذلك موظفاً جملة فعلية و صفة و سطرهما .

التصحيح النموذجي لاختبار الدعم رقم (03) في نشاط الرياضيات

العلامة بالنفاصيل	العلامة كاملة	حلول التمارين المقدمة
0.25 لكل إجابة صحيحة	1.5	<p>التمرين الأول : تصحيح الأخطاء :</p> <p>- 7 203 698 رقم المئات هو 6 و عدد الآلاف هو : 7203 .</p> <p>- 784 193 265 رقم الآلاف هو 3 و عدد الملايين هو 784 .</p> <p>- 14 987 630 رقم الملايين هو 4 و عدد العشرات هو 1498763 .</p>
0.5 لكل عدد مفكك صحيح	1.5	<p>التمرين الثاني : تفكيك الأعداد :</p> <p>$100\ 245\ 005 = 100\ 000\ 000 + 200\ 000 + 40\ 000 + 5\ 000 + 5 .$</p> <p>$7\ 200\ 107 = 7\ 000\ 000 + 200\ 000 + 100 + 7 .$</p> <p>$25\ 910\ 304 = 20\ 000\ 000 + 5\ 000\ 000 + 900\ 000 + 10\ 000 + 300 + 4 .$</p>
0.25 لكل خطوة صحيحة	1.5	<p>التمرين الثالث :</p> <p><u>الأجوبة</u></p> <p>1/ ثمن شراء كل الورود هو : 93750 دينار</p> <p>$750 \times 125 = 93750\ DA$</p> <p><u>الحل</u></p> <p><u>العمليات</u></p> $\begin{array}{r} 750 \\ \times 125 \\ \hline = 3750 \\ + 1500 . \\ + 750 . \\ \hline = 93750 \end{array}$
0.5 لكل مستقيم 0.25 لكل قطعة مستقيمة	1.5	<p>التمرين الرابع : المستقيمات الموجودة في الشكل هي : (A) و (B) . القطع المستقيمة الموجودة في الشكل هي : [FH] [FC]</p>

الوضعية الإدماجية :

		<u>الحل</u>	<u>الأجوبة</u>
0.5 لكل عملية عمودية صحيفة و 0.5 لكل عملية أفقية صحيفة و 0.25 لكل عنوان إجابة صحيح	4 نقاط	$\begin{array}{r} 45000 \\ \times 12 \\ \hline = 90000 \\ +45000 \\ \hline =540000 \end{array}$	1/ ثمن شراء الأجهزة هو : 540000 دينار $45000 \times 12 = 540000 \text{ DA}$
		$\begin{array}{r} 350 \\ + 12 \\ \hline = 700 \\ +350 \\ \hline =4200 \end{array}$	2/ ثمن البرمجة هو : 4200 دينار $350 \times 12 = 4200 \text{ DA}$
0.25 للتنظيم		$\begin{array}{r} 540000 \\ + 4200 \\ + 850 \\ \hline =545050 \end{array}$	3/ كلفة الأجهزة هي : 545050 دينار $540000 + 4200 + 850 = 545050 \text{ DA}$

التصحيح النموذجي لاختبار الدعم (03) في نشاط اللغة العربية

العلامة مفصلة	العلامة كاملة	الأجوبة النموذجية														
0.5 لكل إجابة صحيحة و 0.5 لكل مفردة صحيحة و 0.25 لتوظيفها في جملة	3 نقاط	<p>أ / أجوبة الفهم :</p> <p>1/ كان يعمل صانع الأحذية بكل اتقان و اخلاص .</p> <p>2/ <u>العبرة هي</u> : ، فلا السبابة تشغل ولا صراخ الباعة يضجزة .</p> <p>3/ <u>شرح الكلمات وتوظيفها في جملة مفيدة</u></p> <table border="1"> <thead> <tr> <th>الكلمة</th> <th>مرادفتها</th> <th>توظيفها في جملة</th> </tr> </thead> <tbody> <tr> <td>يقدره</td> <td>يحترمه</td> <td>يقدر الناس صاحب الأخلاق الحسنة</td> </tr> <tr> <td>شرع</td> <td>بدأ</td> <td>شرع الأستاذ في شرح الدرس</td> </tr> </tbody> </table> <p>4/ <u>عنوان النص</u> : اتقان العمل ، الاسكافي ، العمل المتقن</p>	الكلمة	مرادفتها	توظيفها في جملة	يقدره	يحترمه	يقدر الناس صاحب الأخلاق الحسنة	شرع	بدأ	شرع الأستاذ في شرح الدرس					
الكلمة	مرادفتها	توظيفها في جملة														
يقدره	يحترمه	يقدر الناس صاحب الأخلاق الحسنة														
شرع	بدأ	شرع الأستاذ في شرح الدرس														
1.25 للإعراب 0.25 للاستخراج 0.25 لتعليل الهمزة 1.25 للتحويل	3 نقاط	<p>ب/ أجوبة اللغة :</p> <p>1/ <u>استخراج جمع مذكر سالم</u> : المتقنون ، الكثيرين</p> <p>2/ <u>الإعراب</u> :</p> <table border="1"> <thead> <tr> <th>الكلمة</th> <th>إعرابها</th> </tr> </thead> <tbody> <tr> <td>أعرف</td> <td>فعل مضارع مرفوع وعلامة رفعه الضمة الظاهرة على آخره والفاعل ضمير مستتر تقديره أنا .</td> </tr> <tr> <td>الناس</td> <td>فاعل مرفوع وعلامة رفعه الضمة الظاهرة على آخره</td> </tr> <tr> <td>الباعة</td> <td>مضاف إليه مجرور وعلامة جره الكسرة الظاهرة على آخره</td> </tr> </tbody> </table> <p>3/ <u>تعليل كتابة الهمزة</u> :</p> <table border="1"> <thead> <tr> <th>الكلمة</th> <th>نوع الهمزة</th> <th>التعليل</th> </tr> </thead> <tbody> <tr> <td>مؤونة</td> <td>همزة متوسطة على الواو</td> <td>لأنها مضمومة بعد فتح</td> </tr> </tbody> </table> <p>4/ <u>التحويل إلى المثني</u> :</p> <p>والمثقتان فما اللذان يُحيان أغمالهما فينجان إلى حدٍ بعيدٍ</p>	الكلمة	إعرابها	أعرف	فعل مضارع مرفوع وعلامة رفعه الضمة الظاهرة على آخره والفاعل ضمير مستتر تقديره أنا .	الناس	فاعل مرفوع وعلامة رفعه الضمة الظاهرة على آخره	الباعة	مضاف إليه مجرور وعلامة جره الكسرة الظاهرة على آخره	الكلمة	نوع الهمزة	التعليل	مؤونة	همزة متوسطة على الواو	لأنها مضمومة بعد فتح
الكلمة	إعرابها															
أعرف	فعل مضارع مرفوع وعلامة رفعه الضمة الظاهرة على آخره والفاعل ضمير مستتر تقديره أنا .															
الناس	فاعل مرفوع وعلامة رفعه الضمة الظاهرة على آخره															
الباعة	مضاف إليه مجرور وعلامة جره الكسرة الظاهرة على آخره															
الكلمة	نوع الهمزة	التعليل														
مؤونة	همزة متوسطة على الواو	لأنها مضمومة بعد فتح														
1.5 ن للمطلوب نقطة واحدة للتوظيف و 0.25 لكل خطوة من الخطوات المتبقية	4 نقاط	<p>ج/ الوضعية الإدماجية :</p> <ul style="list-style-type: none"> - أن يكتب المتعلم فقرة لا تزيد عن 10 أسطر . - أن لا يخرج عن الموضوع أو يعيد كتابة النص . - التحدث عن العمل وكيفية اتقانه والفائدة من ذلك . - أن يوظف المتعلم علامات الوقف وبياض الفقرات . - أن يوظف المتعلم الشواهد (آية ، حديث ، حكمة) . - توظيف جمع مؤنث سالم . 														

اختبار دعم رقم (04) في الرياضيات

التمرين الأول : 1.5 نقطة

1/ اذكر مضاعفات 5 المحصورة بين 32 و 48 .

2/ اذكر مضاعفات العدد 10 المحصورة بين 67 و 93 .

التمرين الثاني : 1.5 نقطة :

1/ قارن باستخدام الرمز المناسب :

14 526 263 14 526 009

7 236 109 7 236 209

325 009 456 9 120 633

2/ رتب الأعداد التالية ترتيبا تنازليا :

61 230 456 ، 82 364 120 ، 5 112 360

التمرين الثالث : 1.5 نقطة

كان عند محمد مبلغ 290 دينار فذهب للمكتبة فاشترى سيالة بثمن 100 دينار وعلية أقلام ملونة بثمن 160 دينار .

فما هو المبلغ المتبقى عند محمد ؟

التمرين الرابع : 1.5 نقطة

- ارسم المستقيمين (A) و (B) متعامدين في النقطة F .

- ارسم المستقيم (K) يكون عموديا على المستقيم (A) في النقطة D

- ماذا يمكن أن نقول عن المستقيمين (B) و (K) .

الوضعية الإدماجية : (4 نقاط)

(

اشترى تاجر 25 دراجة ، بثمن 2250 دينار للدراجة الواحدة .

1/ ما هو ثمن شراء الدراجات ؟ .

إذا كان ثمن بيع الدراجة الواحدة 2500 دينار .

2/ فما هو ثمن بيع كل الدراجات ؟ .

3/ ما هي الفائدة التي حققها التاجر ؟ .

اختبار دعم رقم (04) في نشاط اللغة العربية

النص :

جَلَسْتُ فِي الْحَبِيقَةِ الْمُوَاجِهَةِ لِلشَّارِعِ وَلَاخْطُتُ أَنْ الْمَارَّةَ فِي هَذِهِ الْمَدِينَةِ لَا يَغْرِفُونَ مَعْنَى لِلْغُشْبِ، وَلَا لِلْحَشَائِشِ الصَّغِيرَةِ، وَلَا لِلزُّرُودِ ... كَانُوا يَمُرُّونَ وَيُدُوسُونَ الْغُشْبَ الْأَخْضَرَ وَالْحَشَائِشَ الصَّغِيرَةَ النَّائِيَةَ بِغَوْضِي عَلَى حَنْبَاتِ الطَّرِيقِ . عَيُونُهُمْ فِي الْأَرْضِ وَأَجْسَامُهُمْ تَتَحَرَّكُ بِالْيَدِ وَبِلا وَغَيِّ، وَعُقُولُهُمْ سَابِحَةٌ شَارِدَةٌ مَا أَقْبَحَ أَنْ تَمْشِي فَوْقَ الْأَغْصَابِ الْخَضِرَاءِ وَتُدُوسَ النَّبَاتَاتِ وَالْأَزْهَارَ ! إِنَّهَا حَقٌّ لِلْجَمِيعِ وَمُتَعَةٌ لِكُلِّ الْأَعْيُنِ.

(تَمَنَيْتُ أَنْ أَكُونَ طِفْلاً صَغِيْرًا) ، لِأَقُومَ الْآنَ وَالْعَبَّ هُنَاكَ حَنْبَ الْغُشْبِ الْأَخْضَرَ ، وَحَنْبَ الْحَشَائِشِ الصَّغِيرَةِ وَالزُّرُودِ الْمُتَفَتِّحَةِ، لِكُنْ حُلْمِي يَصْبِغُ حِينَ أَهْتَرُ وَ يَهْتَرُ مَعِيَ الشَّارِعَ لِهُدِيرِ السِّيَّارَاتِ وَالْحَافِلَاتِ فَاجِئْ مَرَّةً أُخْرَى إِلَى الْغُشْبِ الْأَخْضَرَ الَّذِي تَقْتُلُهُ الْآنَ أَقْدَامَ الْمَارَّةِ الْمُكْفَهْرَةِ وَجُوهَهُمْ .
أَجِئْ إِلَى الْغَابَةِ، أَجِئْ إِلَى الْأَشْجَارِ الْخَضِرَاءِ الْوَافِرَةِ الظَّلَالِ ، إِلَى مِيَاهِ الْأَنْهَارِ ، إِلَى هَوَاءِ النَّقْيِ يَغْسِلُ رِئْتِي وَيُزِيلُ مَا عَلِقَ بِهِمَا مِنْ أُنْزَانِ نُحَانَ الْحَافِلَاتِ وَالْمَعَامِلِ وَالْمَصْنَاعِ

(أ) أسئلة الفهم : (03 نقاط)

1 - أربط كل جملة بما يناسبها لإكمال معناها :

- يدوس المارّة الغشّب
- هدير السيّارات والحافلات
- يزيل الهواء النقيّ
- أذنان الدخان من الرنتين
- بلا وغيّ
- يسبب الازعاج

2 - استخرج من النص مرادف كل كلمة من الكلمات الآتية :

المقابلة - تأنية - أتشوق

(ب) أسئلة اللغة : (03 نقاط)

- 1 - أعرّب ما تحته خطّ في النص .
- 2 - ادخل احدى أخواتها إن على الجملة التالية واضبطها بالشكل التام :
..... الحبيقة جنة بأزهارها المتفتحة

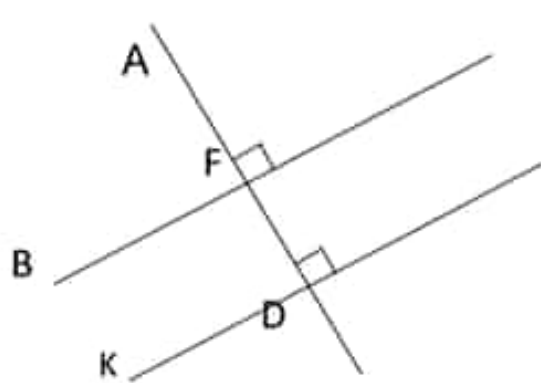
4 - علل سبب كتابة الهمزة في كلمة :ملجأ .

1 - حول العبارة بين قوسين مع جماعة المتكلمين .

الوضعية الإدماجية (4 نقاط)

خرجت في نزهة إلى الغابة، فلقت اثنيهاك طفلاً مشاغباً يقطف الأزهار ويكسب الأغصان، فتوجهت نحوه تنهية وتنصحه . اكتب فقرة عن ذلك لا تقل عن 10 أسطر موظفاً جملة فعلية و جمع تكسير و سطرهما .

التصحيح النموذجي لاختبار الدعم رقم (04) في الرياضيات

العلامة بال تفصيل	العلامة كاملة	حلول التمارين المقدمة
0.25 لكل إجابة صحيحة	1.5	التمرين الأول : 1/ مضاعفات 5 المحصورة بين 32 و 48 هي : 35 ، 40 ، 45 . 2/ مضاعفات 10 المحصورة بين 67 و 93 هي : 70 ، 80 ، 90 .
0.75 للمقارنة 0.75 للترتيب	1.5	التمرين الثاني : / قارن باستخدام الرمز المناسب : 14 526 263 > 14 526 009 7 236 109 ، 7 236 209 325 009 456 > 9 120 633 2/ ترتيب الأعداد تنازليا : 82 364 120 > 61 230 456 > 5 112 360
0.25 لكل خطوة صحيحة	1.5	التمرين الثالث : <u>الأجوبة</u> 1/ ثمن المشتريات هو : 260 دينار <u>الحل</u> 100 + 160 = 260 $160 + 100 = 260 \text{ DA}$ 2/ المبلغ المتبقي عند أحمد هو: 30 دينار <u>العمليات</u> 290 - 260 = 030 $290 - 260 = 30 \text{ DA}$
1.25 لرسم 0.25 للإجابة	1.5	التمرين الرابع :  نقول عن المستقيمين (B) و (K) متوازيان

الوضعية الإدماجية :

		<u>العمليات</u>	<u>الحل</u>	<u>الأجوبة</u>
0.5 لكل عملية عمودية صحيحة و 0.5 لكل عملية افقية صحيحة و 0.25 لكل عنوان إجابة صحيح	4 نقاط	$\begin{array}{r} 2250 \\ \times 25 \\ \hline =11250 \\ + 4500. \\ \hline =56250 \end{array}$		1/ ثمن شراء الدراجات هو : 56250 دينار $2250 \times 25 = 56250 \text{ DA}$
		$\begin{array}{r} 2500 \\ + 25 \\ \hline =12500 \\ + 5000. \\ \hline =62500 \end{array}$		2/ ثمن بيع الدراجات هو : 62500 دينار $2500 \times 25 = 62500 \text{ DA}$
0.25 للتنظيم		$\begin{array}{r} - 56250 \\ \hline = 06250 \end{array}$	دينار	3/ الفائدة التي حققها التاجر هي : 6250 62500 $62500 - 56250 = 6250 \text{ DA}$

التصحیح النموذجي لاختبار الدعم (04) في نشاط اللغة العربية

العلامة مفصلة	العلامة كاملة	الأجوبة النموذجية														
0.5 لكل إجابة	3 نقاط	<p>أ / أجوبة الفهم :</p> <p>1/ الربط بين كل عبارة وما يناسبها لكما لمعناها :</p> <p>- يذوسن العارضة العشب - - هدير السيارات والحافلات - - يزيل الهواء النقي -</p> <p>- أذنان الدخان من الرننتين - - بلا وغي - - يسبب الازعاج -</p> <p>2/ أضداد الكلمات :</p> <table border="1"> <tr> <td>الكلمة</td> <td>مرادفتها</td> </tr> <tr> <td>المقابلة</td> <td>المواجهة</td> </tr> <tr> <td>تاتية</td> <td>شاردة</td> </tr> <tr> <td>أتشوق</td> <td>أحن</td> </tr> </table>	الكلمة	مرادفتها	المقابلة	المواجهة	تاتية	شاردة	أتشوق	أحن						
الكلمة	مرادفتها															
المقابلة	المواجهة															
تاتية	شاردة															
أتشوق	أحن															
1.25 للإعراب 0.5 للجواب الثاني 0.25 لتعليل الهمزة 1 للتحويل	3 نقاط	<p>ب/ أجوبة اللغة :</p> <p>1/ الاعراب :</p> <table border="1"> <tr> <td>الكلمة</td> <td>اعرابها</td> </tr> <tr> <td>جلست</td> <td>فعل ماضٍ مبني على السكون لاتصاله بـتاء المتكلم وتاء المتكلم ضمير متصل مبني في محل رفع فاعل .</td> </tr> <tr> <td>المارة</td> <td>اسم أن منصوب وعلامة نصبه الفتحة الظاهرة على آخره .</td> </tr> <tr> <td>الخضراء</td> <td>صفة مجرورة وعلامة جرّها الكسرة الظاهرة على آخرها</td> </tr> </table> <p>2/ ادخال احدى أخواتها إن على الجملة التالية وضبطها بالشكل التام : كان الخديعة جنّة بأزهارها المتفتحة</p> <p>3/ تعليل كتابة الهمزة :</p> <table border="1"> <tr> <td>الكلمة</td> <td>نوع الهمزة</td> <td>التعليل</td> </tr> <tr> <td>ملجأ</td> <td>همزة متطرفة على الألف</td> <td>لأن الحرف الذي قبلها مفتوح .</td> </tr> </table> <p>4/ التحويل مع جماعة المتكلمين : تَمَنِّيْنَا أَنْ نَكُونَ أَطْفَالًا صَغَارًا .</p>	الكلمة	اعرابها	جلست	فعل ماضٍ مبني على السكون لاتصاله بـتاء المتكلم وتاء المتكلم ضمير متصل مبني في محل رفع فاعل .	المارة	اسم أن منصوب وعلامة نصبه الفتحة الظاهرة على آخره .	الخضراء	صفة مجرورة وعلامة جرّها الكسرة الظاهرة على آخرها	الكلمة	نوع الهمزة	التعليل	ملجأ	همزة متطرفة على الألف	لأن الحرف الذي قبلها مفتوح .
الكلمة	اعرابها															
جلست	فعل ماضٍ مبني على السكون لاتصاله بـتاء المتكلم وتاء المتكلم ضمير متصل مبني في محل رفع فاعل .															
المارة	اسم أن منصوب وعلامة نصبه الفتحة الظاهرة على آخره .															
الخضراء	صفة مجرورة وعلامة جرّها الكسرة الظاهرة على آخرها															
الكلمة	نوع الهمزة	التعليل														
ملجأ	همزة متطرفة على الألف	لأن الحرف الذي قبلها مفتوح .														
1.5 ن للمطلوب نقطة واحدة للتوظيف و0.25 لكل خطوة من الخطوات المتبقية	4 نقاط	<p>ج/ الوضعية الإدماجية :</p> <p>- أن يكتب المتعلم فقرة لا تزيد عن 10 أسطر . - أن لا يخرج عن الموضوع أو يعيد كتابة النص . - يتحدث على كيفية نصح الطفل وتوجيهه . - أن يوظف المتعلم علامات الوقف وبياض الفقرات . - أن يوظف المتعلم الشواهد (آية ، حديث ، حكمة) . - توظيف جمع مؤنث سالم .</p>														

اختبار دعم رقم (05) في الرياضيات

التمرين الأول : 1.5 نقطة

احصر الأعداد التالية بين ألفين متتاليتين :

..... < 14752 <

..... < 752635 <

..... < 5642 <

التمرين الثاني : 1.5 نقطة :

يبين الجدول التالي مبيعات شركة سيارات خلال سنوات مختلفة :

السنوات	2010	2011	2012	2013
عدد السيارات المباعة	5215	12700	15000	13100

1/ كم عدد السيارات المباعة سنة 2011 بالحروف ؟

2/ في أي سنة تم بيع أكبر عدد من السيارات ؟

3/ ما هو الفرق بين مبيعات سنة 2013 و سنة 2010 ؟

التمرين الثالث : 1.5 نقطة

اشترى الأب علبة بن بـ 150 دينار وعلبة سكر بـ 120 دينار ، أعطى الاب لصاحب المحل مبلغ 500 دينار . - ما هو المبلغ الذي يرجعه التاجر للأب ؟

التمرين الرابع : 1.5 نقطة :

اجب بصحيح او خطأ امام كل عبارة مع تصحيح الخطأ :

1/ المستقيم هو مجموعة من النقاط غير منتهية

2/ نصف المستقيم يكون محدود من الطرفين ونرمز له بقوسين

3/ القطعة المستقيمة نرسم لها بقوسين

الوضعية الإدماجية : (4 نقاط)

لشراء ثلاجة وغسالة دفع الأب للتاجر في الأول مبلغ 19000 دينار والباقي دفعه بالتقسيط على 6 دفعات بحيث ثمن الدفعة الواحدة هو 3500 دينار .

1/ ما هو ثمن كل الدفعات ؟

2/ ما هو المبلغ الكلي الذي دفعه الاب؟

3/ ما هو ثمن الثلاجة ؟ اذا علمت ان ثمن الغسالة هو 13500 دينار .

اختبار دعم رقم (05) في نشاط اللغة العربية

النص :

يَعِيشُ الْجَزَائِرِيُّونَ الْيَوْمَ أَسْعَدَ أَيَّامِهِمْ ، وَ يَجْنُونَ ثَمَرَاتِ بُضَائِهِمْ وَ كِفَاجِهِمْ ، لِأَنَّهْمَ الْيَوْمَ ذُوْلَةُ مُسْتَقَلَّةٌ . قُلُوبُهُمْ مُنْحَابَةٌ ، وَ أَهْدَافُهُمْ وَاضِحَةٌ . بَعْدَمَا تَحَقَّقَ نَصْرُهُمْ وَ هُزِمَ عَدُوُّهُمْ الْاِسْتِعْمَارُ الْفَرَنْسِي ، وَ لَا يُكَادُ يَمُرُّ بِهِمْ شَهْرٌ مِنْ الشُّهُورِ إِلَّا وَ لَهُمْ فِيهِ عِيْدٌ ، يَخْتَقِلُونَ فِيهِ بِنُصْرِ خَالِدِ أَوْ كَسْبِ عَظِيمٍ . فَتَعْمُ الْفَرَحَةُ الْبِلَادَ ، وَ يَهْتَفِي كُلُّ وَاحِدٍ مِنْهُمْ أَخَاهُ وَ يَتَذَكَّرُونَ فِيهَا قِصَصَ الْبَطُولَةِ وَ الْمَجْدِ وَ مَعَارِكَ جِبَالِ الْأَوْزَاسِ وَ جِبَالِ الْقَبَائِلِ ، وَ جِبَالِ الْوَتُّشْرِيْسِ وَ الصَّخْرَاءِ وَ غَيْرَهَا مِنْ الْمَعَارِكِ الْخَالِدَةِ الَّتِي جَزَتْ فَوْقَ كُلِّ شَيْءٍ مِنْ أَرْضِ الْجَزَائِرِ .

(أ) أسئلة الفهم : (03 نقاط)

1/ هات عنوانا مناسباً للنص .

2/ من هو العدو الذي انتصر عليه الشعب الجزائري ؟

3/ اشرح الكلمتين التاليتين : يجنون ، الفرحة .

4/ استخرج من النص ضد كلمة : " هزيمة " .

(ب) أسئلة اللغة : (03 نقاط)

(

1/ أعرب ما تحته خط في انص.

2/ علل سبب كتابة التاء مربوطة في كلمة : " الْخَالِدَةُ " .

3/ اكمل الجدول بكلمات منم النص :

فعل من الأفعال الخمسة	جمع مذكر سالم	جمع مؤنث سالم
.....

4/ حول إلى جمع المؤنث العبارة الآتية : " بَعْدَمَا تَحَقَّقَ نَصْرُهُمْ وَ هُزِمَ عَدُوُّهُمْ الْاِسْتِعْمَارُ الْفَرَنْسِي ."

(ج) الوضعية الإدماجية (4 نقاط)

احتفلنا خلال الشهر الماضي بعيد الثورة الذي يصادف 01 نوفمبر من كل سنة .

تحدث في فقرة لا تتجاوز عشرة أسطر عن مظاهر الاحتفال بهذا اليوم موظفا اسم إشارة وفعل مضارع وسطرهما .

التصحيح النموذجي لاختبار الدعم رقم (05) في الرياضيات

العلامة بال تفصيل	العلامة كاملة	حلول التمارين المقدمة									
0.5 لكل إجابة صحيحة	1.5	<p>التمرين الأول : حصر الأعداد التالية بين الفين متتاليين :</p> <p>14000 < 14752 < 15000</p> <p>752000 < 752635 < 753000</p> <p>5000 < 5642 < 6000</p>									
0.5 لكل إجابة صحيحة	1.5	<p>التمرين الثاني :</p> <p>1/ عدد السيارات المباعة سنة 2011 هو : اثنا عشر ألفا وسبعمان .</p> <p>2/ السنة التي بيع فيها أكبر عدد من السيارات هي سنة 2012 بـ 15000 سيارة</p> <p>3/ الفرق بين مبيعات سنة 2013 وسنة 2010 هو : 7885 سيارة</p> <p>$13100 - 5215 = 7885$</p>									
0.25 لكل خطوة صحيحة	1.5	<p>التمرين الثالث :</p> <table border="1"> <thead> <tr> <th>العمليات</th> <th>الحل</th> <th>الأجوبة</th> </tr> </thead> <tbody> <tr> <td> $\begin{array}{r} 150 \\ + 120 \\ \hline = 270 \end{array}$ </td> <td></td> <td>1/ ثمن المشتريات هو : 270 دينار</td> </tr> <tr> <td> $\begin{array}{r} 500 \\ - 270 \\ \hline = 230 \end{array}$ </td> <td></td> <td>2/ المبلغ المتبقي عند أحمد هو: 230 دينار</td> </tr> </tbody> </table>	العمليات	الحل	الأجوبة	$\begin{array}{r} 150 \\ + 120 \\ \hline = 270 \end{array}$		1/ ثمن المشتريات هو : 270 دينار	$\begin{array}{r} 500 \\ - 270 \\ \hline = 230 \end{array}$		2/ المبلغ المتبقي عند أحمد هو: 230 دينار
العمليات	الحل	الأجوبة									
$\begin{array}{r} 150 \\ + 120 \\ \hline = 270 \end{array}$		1/ ثمن المشتريات هو : 270 دينار									
$\begin{array}{r} 500 \\ - 270 \\ \hline = 230 \end{array}$		2/ المبلغ المتبقي عند أحمد هو: 230 دينار									
0.5 لكل إجابة صحيحة	1.5	<p>التمرين الرابع :</p> <p>الإجابة بصحيح أو خطأ أمام كل عبارة مع تصحيح الخطأ :</p> <p>1/ المستقيم هو مجموعة من النقاط غير منتهية صحيح</p> <p>2/ نصف المستقيم يكون محدود من الطرفين ونرمز له بقوسين خطأ ← نصف المستقيم محدود من طرف واحد ونرمز له بعارضة وقوس .</p> <p>3/ القطعة المستقيمة نرسم لها بقوسين خطأ ← القطعة المستقيمة نرسم لها بعارضتين</p>									

الوضعية الإدماجية :

		<u>العمليات</u>	<u>الحل</u>	<u>الأجوبة</u>
0.5 لكل عملية عمودية صحيفة و 0.5 لكل عملية أفقية صحيفة و 0.25 لكل عنوان إجابة صحيح و 0.25 للتنظيم	4 نقاط	$\begin{array}{r} 3500 \\ \times 6 \\ \hline = 21000 \end{array}$		1/ ثمن كل الدفعات هو : 21000 دينار $3500 \times 6 = 21000 \text{ DA}$
		$\begin{array}{r} 21000 \\ + 19000 \\ \hline = 40000 \end{array}$		2/ المبلغ الكلي الذي دفعه الأب هو : 40000 دينار $21000 \times 19000 = 40000 \text{ DA}$
		$\begin{array}{r} - 13500 \\ \hline = 26500 \end{array}$		3/ ثمن التلاجة هو : 26500 دينار 40000 $40000 - 13500 = 26500 \text{ DA}$

التصحيح النموذجي لاختبار الدعم (05) في نشاط اللغة العربية

العلامة مفصلة	العلامة كاملة	الأجوبة النموذجية																				
1 للعنوان 0.5 لكل إجابة أخرى صحيحة	3 نقاط	<p><u>أ / أجوبة الفهم :</u> <u>1/ عنوان النص هو :</u> انتصار الجزائر ، فرحة الجزائر <u>2/ العدو الذي انتصر عليه الشعب الجزائري هو الاستعمار الفرنسي .</u> <u>3/ مرادف الكلمات</u></p> <table border="1"> <tr> <td>الكلمة</td> <td>مرادفها</td> </tr> <tr> <td>يجنون</td> <td>يقطفون</td> </tr> <tr> <td>الفرحة</td> <td>السعادة</td> </tr> </table> <p><u>4/ ضد الكلمة :</u> هزيمة ≠ نصر .</p>	الكلمة	مرادفها	يجنون	يقطفون	الفرحة	السعادة														
الكلمة	مرادفها																					
يجنون	يقطفون																					
الفرحة	السعادة																					
1.5 للإعراب 0.25 لتعليل التاء 0.75 للاستخراج 0.5 للتحويل	3 نقاط	<p><u>ب/ أجوبة اللغة :</u> <u>1/ الاعراب :</u></p> <table border="1"> <tr> <td>الكلمة</td> <td>اعرابها</td> </tr> <tr> <td>يعيش</td> <td>فعل مضارع مرفوع وعلامة رفعه الضمة الظاهرة على آخره .</td> </tr> <tr> <td>قصص</td> <td>مفعول به منصوب وعلامة نصبه الفتحة الظاهرة على آخره</td> </tr> <tr> <td>الجزائر</td> <td>مضاف إليه مجرور وعلامة جره الكسرة الظاهرة على آخره</td> </tr> </table> <p><u>2/ تعليل كتابة التاء :</u></p> <table border="1"> <tr> <td>الكلمة</td> <td>نوع التاء</td> <td>التعليل</td> </tr> <tr> <td>الخالدة</td> <td>تاء مربوطة</td> <td>اسم مفرد مؤنث</td> </tr> </table> <p><u>3/ ملء الجدول :</u></p> <table border="1"> <tr> <td>فعل من الأفعال الخمسة</td> <td>جمع مذكر سالم</td> <td>جمع مؤنث سالم</td> </tr> <tr> <td>يجنون ، يحتفلون ، يتذكرون</td> <td>ثمرات</td> <td>الجزائريون</td> </tr> </table> <p><u>4/ التحويل إلى الجمع المؤنث :</u> <u>بَعْدَمَا تَحَقَّقَ نَصْرُهُنَّ وَهَزِمَ عَدُوَّهُنَّ الْاِسْتِعْمَارَ الْفَرَنْسِيَّ .</u></p>	الكلمة	اعرابها	يعيش	فعل مضارع مرفوع وعلامة رفعه الضمة الظاهرة على آخره .	قصص	مفعول به منصوب وعلامة نصبه الفتحة الظاهرة على آخره	الجزائر	مضاف إليه مجرور وعلامة جره الكسرة الظاهرة على آخره	الكلمة	نوع التاء	التعليل	الخالدة	تاء مربوطة	اسم مفرد مؤنث	فعل من الأفعال الخمسة	جمع مذكر سالم	جمع مؤنث سالم	يجنون ، يحتفلون ، يتذكرون	ثمرات	الجزائريون
الكلمة	اعرابها																					
يعيش	فعل مضارع مرفوع وعلامة رفعه الضمة الظاهرة على آخره .																					
قصص	مفعول به منصوب وعلامة نصبه الفتحة الظاهرة على آخره																					
الجزائر	مضاف إليه مجرور وعلامة جره الكسرة الظاهرة على آخره																					
الكلمة	نوع التاء	التعليل																				
الخالدة	تاء مربوطة	اسم مفرد مؤنث																				
فعل من الأفعال الخمسة	جمع مذكر سالم	جمع مؤنث سالم																				
يجنون ، يحتفلون ، يتذكرون	ثمرات	الجزائريون																				
1.5 ن للمطلوب نقطة واحدة للتوظيف و0.25 لكل خطوة من الخطوات المتبقية	4 نقاط	<p><u>ج/ الوضعية الإنعاجية :</u></p> <ul style="list-style-type: none"> - أن يكتب المتعلم فقرة لا تزيد عن 10 أسطر . - أن لا يخرج عن الموضوع أو بعيد كتابة النص . - يتحدث عن مظاهر الاحتفال بعيد الثورة . - أن يوظف المتعلم علامات الوقف وبياض الفقرات . - أن يوظف المتعلم الشواهد (آية ، حديث ، حكمة) . - توظيف جمع مؤنث سالم . 																				

اختبار دعم رقم (06) في نشاط اللغة العربية

النص :

رَغَارِيدُ تَنْطَلِقُ مِنْ جِبَالِ الْجَزَائِرِ لِتُعَلِّمَ عَنْ فَرْحَةِ الْآتِي الْجَمِيلِ الَّذِي سَيَكْتُبُ لِلْجَزَائِرِ عِيدًا وَغَدًا مُنِيرًا .
يَعِيشُ فِيهِ أَبْنَاءُ الْجَزَائِرِ أَحْزَارًا ، دُونَ قُبُودِ فِي بِلَادِ الْحَضَارَاتِ الزَّيْنِيَّةِ وَ الْحَمَادِيَّةِ وَالرُّسْتَمِيَّةِ .
الْجَزَائِرُ هِيَ بِلَادُ الْبِضَالِ وَالْكَفَاحِ لَيْسَ فَقَطْ فِي قَرْنٍ وَثَلَاثِينَ سَنَةً بَلْ مِنْذُ الْعَصْرِ الْقَدِيمِ ، عَصُرُ نُومِيدِيَا
الَّتِي قَهَزَتْ الرُّومَانَ ، وَعَصُرُ الْحَضَارَاتِ الْإِسْلَامِيَّةِ الَّتِي أَشْعَتْ بِنُورِهَا وَأَسَسَتْ ثَقَافَةً عَرِيقَةً تُمَثِّلُ مَجْدَ
الْجَزَائِرِ

هَذَا الَّذِي أَخَذَ مِنْهُ أَبْنَاءُ ثَوْرَةِ التَّخْرِيرِ قُوَّتَهُمْ (كَيْ يُوَاجِهُوا الْاسْتِعْصَارَ الْغَائِثِمَ وَيَنْتَزِعُوا خُرَيْتَهُمْ
وَاسْتِقْلَالَهُمْ) فِي أَعْظَمِ عِيدٍ وَطَنِيٍّ لِلْجَزَائِرِ . فَمَا أَجْمَلُ أَنْ تَعِيشَ الْجَزَائِرُ كَالْوَزْدَةِ الْمُتَفَتِّحَةِ تُبَارِكُهَا دِمَاءُ أَبْنَاءِ
الثَّوْرَةِ ، وَتَنْمُو وَتَزْدَهْرُ بِسَوَاجِدِ أَبْنَاءِ الْاسْتِقْلَالِ .

(أ) أسئلة الفهم : (03 نقاط)

- 1- هات عنواناً مناسباً للنص .
- 2- بما شبه الكاتب الجزائر ؟
- 3- استخرج من النص مرادف الكلمتين الآتيتين : مُضِينًا - تَنْطَلِقُ .

(ب) أسئلة اللغة : (03 نقاط)

- 1- أعرب ما تحته خط في النص .
- 2- إملأ الجدول الآتي من النص :

من اخوات كان	فعل من الأفعال الخمسة	جمع مؤنث سالم
.....

- 3- أسند العبارة التي بين قوسين في النص إلى المفرد المذكور .

(ج) الوضعية الإدماجية (4 نقاط)

الجزائر هي بلدنا الذي ضحى من أجله الشهداء .

- أكتب فقرة لا تزيد عن 12 سطرا تتحدث فيها عن كيفية المحافظة على وطنك الجزائر وماذا ستفعل من أجل تطويره موظفا جمع مذكر سالم وصفة وسطرهما .

اختبار دعم رقم (06) في نشاط الرياضيات

التمرين الأول : 1.5 نقطة

اكتب الكسور التالية بالأرقام أو بالحروف :

$$\begin{array}{l} \frac{1}{2} \leftarrow \dots\dots\dots \\ \frac{6}{7} \leftarrow \dots\dots\dots \\ \frac{2}{10} \leftarrow \dots\dots\dots \\ \text{سبعة أرباع} \leftarrow \dots\dots\dots \\ \text{ثلاثة أخماس} \leftarrow \dots\dots\dots \\ \text{خمسة أثمان} \leftarrow \dots\dots\dots \end{array}$$

التمرين الثاني : 1.5 نقطة

قارن الكسور التالية بالنسبة لـ 1 :

$$\begin{array}{lll} \frac{12}{12} \dots\dots 1 & \frac{7}{9} \dots\dots\dots 1 & \frac{12}{5} \dots\dots\dots 1 \\ \frac{4}{6} \dots\dots\dots 1 & \frac{3}{3} \dots\dots\dots 1 & \frac{15}{2} \dots\dots\dots 1 \end{array}$$

4 التمرين الثالث : 1.5 نقطة

وقف تلاميذ المدرسة لتحية العلم في 15 صف بحيث يوجد في كل صف على 18 تلميذ .
- ما هو العدد الكلي لتلاميذ المدرسة ؟ .

التمرين الرابع : 1.5 نقطة

أرسم مستقيماً (D) ثم عين النقطة A تبعد عن المستقيم (D) بـ : 3cm

أرسم مستقيماً (K) يوازي المستقيم (D) ويشمل النقطة A .

الوضعية الإدماجية : (4 نقاط)

دخلت امرأة الى السوق فاشتريت فستانا بـ: 1800 ديناراً و ثنورة بـ: 850 ديناراً

1/ ما هو ثمن مشترياتها؟

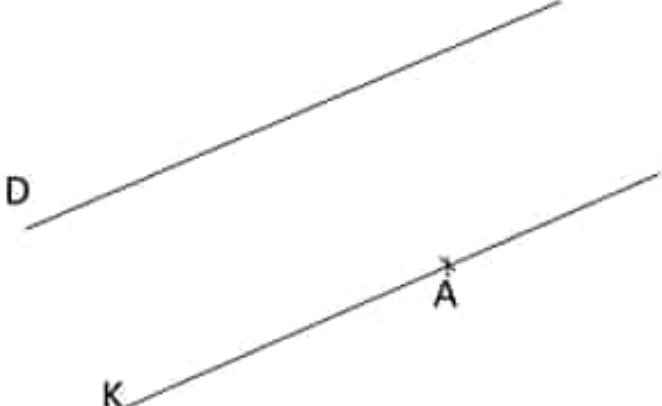
2/ كم ديناراً بقي معها اذا علمت انها دفعت للتاجر 3000 ديناراً

أرادت المرأة أن تشتري بالمبلغ المتبقي قطعة قماش طولها 8 m بحيث أن ثمن المتر الواحد هو 250 دينار

3/ احسب ثمن قطعة القماش .

4/ هل المبلغ المتبقي لها يكفي لشراء القماش ؟

التصحيح النموذجي لاختبار الدعم رقم (06) في الرياضيات

العلامة بال تفصيل	العلامة كاملة	حلول التمارين المقدمة
0.25 لكل إجابة صحيحة	1.5	<p>التمرين الأول : كتابة الكسور بالحروف أو الأرقام :</p> <p>نصف : $\frac{1}{2}$ ثلاثة أخماس : $\frac{3}{5}$ عشران : $\frac{2}{10}$</p> <p>سبعة أرباع : $\frac{7}{4}$ ستة أسباع : $\frac{6}{7}$ خمسة أثمان : $\frac{5}{8}$</p>
0.25 لكل إجابة صحيحة	1.5	<p>التمرين الثاني : مقارنة الكسور بالنسبة لـ 1 :</p> <p>$\frac{12}{12} = 1$ $\frac{7}{9} < 1$ $\frac{12}{5} > 1$ $\frac{4}{6} < 1$ $\frac{3}{3} = 1$ $\frac{15}{2} > 1$</p>
0.25 لكل خطوة صحيحة	1.5	<p>التمرين الثالث :</p> <p>1/ عدد التلاميذ هو : 270 تلميذاً</p> <p><u>الأجوبة</u></p> <p><u>الحل</u></p> <p><u>العمليات</u></p> $\begin{array}{r} 18 \\ \times 15 \\ \hline = 90 \\ +18. \\ \hline = 270 \end{array}$ <p>$18 \times 15 = 270$</p>
0.5 لكل إجابة صحيحة	1.5	<p>التمرين الرابع :</p> 

الوضعية الإدماجية :

		<u>العمليات</u>	<u>الحل</u>	<u>الأجوبة</u>
0.5 لكل عملية عمودية صحيحة و 0.5 لكل عملية أفقية صحيحة و 0.25 لكل عنوان إجابة صحيح	4 نقاط	$\begin{array}{r} 1800 \\ + 850 \\ \hline = 2650 \end{array}$		1/ ثمن المشتريات هو : 2650 دينار $1800 + 850 = 2650 \text{ DA}$
		$\begin{array}{r} 3000 \\ - 2650 \\ \hline = 350 \end{array}$		2/ المبلغ الكلي الذي دفعه الأب هو : 350 دينار $3000 - 2650 = 350 \text{ DA}$
		$\begin{array}{r} \times 8 \\ \hline = 2000 \end{array}$		3/ ثمن القماش هو : 2000 دينار $250 \times 8 = 2000 \text{ DA}$
				4/ المبلغ لا يكفي لشراء القماش لأن $350 \text{ DA} < 2000 \text{ DA}$

التصحيح النموذجي لاختبار الدعم (06) في نشاط اللغة العربية

العلامة مفصلة	العلامة كاملة	الأجوبة النموذجية														
1 لكل جواب	3 نقاط	<p>أ / أجوبة الفهم :</p> <p>1/ عنوان النص هو : تاريخ الجزائر ، كفاح الجزائر ، الجزائر عبر العصور</p> <p>2/ شبه الكاتب الجزائر بالوردة المتفتحة .</p> <p>3/ مرادف الكلمات</p> <table border="1"> <tr> <td>الكلمة</td> <td>مرادفتها</td> </tr> <tr> <td>مضينا</td> <td>منبرا</td> </tr> <tr> <td>تتطور</td> <td>تزهو</td> </tr> </table>	الكلمة	مرادفتها	مضينا	منبرا	تتطور	تزهو								
الكلمة	مرادفتها															
مضينا	منبرا															
تتطور	تزهو															
1.25 للإعراب 0.75 للاستخراج 01 للتحويل	3 نقاط	<p>ب/ أجوبة اللغة :</p> <p>1/ الاعراب :</p> <table border="1"> <tr> <td>الكلمة</td> <td>اعرابها</td> </tr> <tr> <td>الجزائر</td> <td>مبتدا مرفوع وعلامة رفعه الضمة الظاهرة على آخره</td> </tr> <tr> <td>قهرت</td> <td>فعل ماض مبني على الفتح وتاء التانيث الساكنة لا محل لها من الاعراب والفاعل ضمير مستتر تقديره هي .</td> </tr> <tr> <td>تعيش</td> <td>فعل مضارع منصوب بأن وعلامة نصبه الفتحة الظاهرة على آخره .</td> </tr> </table> <p>2/ ملء الجدول من النص :</p> <table border="1"> <tr> <td>من اخوات كان</td> <td>فعل من الأفعال الخمسة</td> <td>جمع مؤنث سالم</td> </tr> <tr> <td>ليس</td> <td>يواجهوا</td> <td>الحضارات</td> </tr> </table> <p>4/ التحويل إلى المفرد المذكر :</p> <p>كَي يُوَاجِهَ الْإِسْبَعْمَارَ الْغَائِبِمَ وَيَنْتَزِعُ حُرَيْبَتَهُ وَاسْتِقْلَالَهُ.</p>	الكلمة	اعرابها	الجزائر	مبتدا مرفوع وعلامة رفعه الضمة الظاهرة على آخره	قهرت	فعل ماض مبني على الفتح وتاء التانيث الساكنة لا محل لها من الاعراب والفاعل ضمير مستتر تقديره هي .	تعيش	فعل مضارع منصوب بأن وعلامة نصبه الفتحة الظاهرة على آخره .	من اخوات كان	فعل من الأفعال الخمسة	جمع مؤنث سالم	ليس	يواجهوا	الحضارات
الكلمة	اعرابها															
الجزائر	مبتدا مرفوع وعلامة رفعه الضمة الظاهرة على آخره															
قهرت	فعل ماض مبني على الفتح وتاء التانيث الساكنة لا محل لها من الاعراب والفاعل ضمير مستتر تقديره هي .															
تعيش	فعل مضارع منصوب بأن وعلامة نصبه الفتحة الظاهرة على آخره .															
من اخوات كان	فعل من الأفعال الخمسة	جمع مؤنث سالم														
ليس	يواجهوا	الحضارات														
1.5 ن للمطلوب نقطة واحدة للتوظيف و0.25 لكل خطوة من الخطوات المتبقية	4 نقاط	<p>ج/ الوضعية الإدماجية :</p> <ul style="list-style-type: none"> - أن يكتب المتعلم فقرة لا تزيد عن 12 أسطر . - أن لا يخرج عن الموضوع أو يعيد كتابة النص . - يتحدث على كيفية المحافظة على الجزائر والمساهمة في تطويرها . - أن يوظف المتعلم علامات الوقف وبياض الفقرات . - أن يوظف المتعلم الشواهد (آية ، حديث ، حكمة) . - توظيف جمع مؤنث سالم وصفة . 														

اختبار دعم رقم (07) في اللغة العربية

النص :

خَلَّ الشِّتَاءُ ، فَتَلَيَّنَتِ الْعُيُومُ الْقَاتِمَةُ وَبَرَدَ الْجَوُّ وَأَخَذَ الْمَطَرُ يَنْزِلُ غَزِيرًا ، كَمَا ظَهَرَ التَّلْجُ عَلَى أَعَالِي الْجِبَالِ اصْنَبَحَتِ الْأَرْضُ حَزِينَةً لِفِرَاقِ الْعُصُولِ الْبَهِيحَةِ ، لَكِنَّهَا مُسْتَبْشِرَةٌ بِالْأَمْطَارِ الْمُتَمَنِّقَةِ عَلَى التَّرْبَةِ الْخَافَةِ ، أَمَّا الْعَصَافِيرُ الَّتِي كَانَتْ تُرْسِلُ مَعَ الْهَوَاءِ الْعَلِيلِ أَغَارِيدَهَا الْمَرِحَةَ فَقَدْ هَاجَرَتْ إِلَى حَيْثُ تَجِدُ الْقَوْتَ وَتَتَعَمَّ بِالذَّفَاءِ . (وَأَمَّا الْأَطْفَالُ التَّذِينَ كَانُوا يَمْرُحُونَ فِي الطَّرِيقِ فَقَدْ اصْنَبَحَتْ أَسْئَالُهُمْ تَصْطَبُّكَ) كَلَّمَا خَرَجُوا إِلَى الْخَلَاءِ ، لِأَنَّهُمْ اصْنَبَحُوا غَزِيرَ قَادِرِينَ عَلَى مُقَاوَمَةِ النَّزْدِ الْقَارِسِ .

أ) أسئلة الفهم : (03 نقاط)

- 1/ في الشتاء تكون الطبيعة حزينة . أين يظهر حزنها ؟
وتكون مستبشرة أين يظهر استبشارها ؟
- 2/ اشرح الكلمتين الآتيتين : القاتمة ، يمرحون .
- 3/ ضع عنوانا مناسباً للنص .

ب) أسئلة اللغة : (03 نقاط)

- 1/ أعرب ما تحته خط في النص .
- 2/ حوّل الجملة التي بين قوسين في النص إلى العثني
- 3/ استخرج من النص :

صفة	جمع تكسير
.....

4/ علل سبب كتابة الهمزة في كلمة : الذَّفَاء


ج) الوضعية الادماجية (4 نقاط) :

فاجأك في طريق العودة من المدرسة مطر غزير ، فرجعت إلى المنزل مبلل الجسم والثياب تحدث عن ذلك في فقرة بين 8 و12 سطرا موظفا جملة فعلية مسطرا تحتها .


اختبار دعم رقم (07) في الرياضيات

التمرين الأول : 1.5 نقطة

لون حسب كل كسر :



$$\frac{1}{2}$$



$$\frac{1}{3}$$



$$\frac{3}{4}$$

التمرين الثاني : 1.5 نقطة

احصر الكسور التالية بين عددين طبيعيين :

$$\dots \left\langle \frac{9}{9} \right\rangle \dots$$

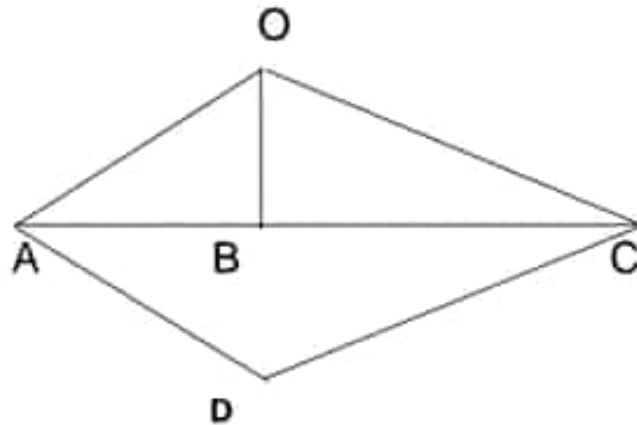
$$\dots \left\langle \frac{5}{8} \right\rangle \dots$$

$$\dots \left\langle \frac{20}{5} \right\rangle \dots$$

التمرين الثالث : 1.5 نقطة

لإحاطة أرض زراعية اشترى الفلاح سياج طوله 3200 cm بثمن 250 دينار للمتر الواحد .

- احسب ثمن السياج .



التمرين الرابع : 1.5 نقطة

استخرج من الشكل المقابل :

- زاويتين قائمتين و زاويتين حادتين .
- و زاوية منفرجة و زاوية مستقيمة .

الوضعية الإدماجية : 4 نقاط

اشترى مدير مدرستنا مقعدا جديدا بسعر 2450 DA وقصصنا للأطفال بـ 5460 DA وألة راقنة بـ 2400 DA وبقي معه مبلغ من المال.

1- احسب ثمن المشتريات.

علما أن المبلغ الذي كان معه هو ضعف ثمن القصص.

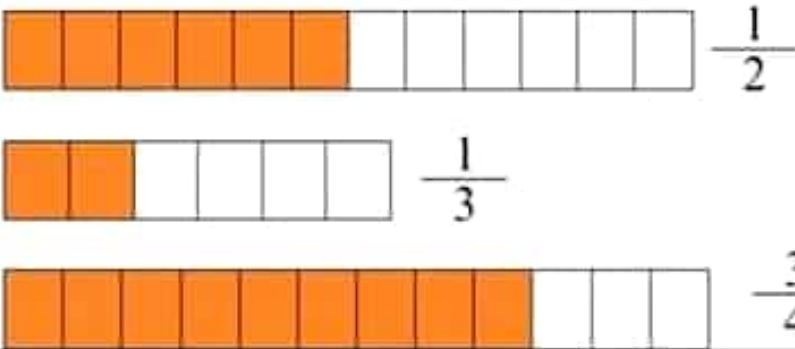
2- ما هو المبلغ الذي كان عنده ؟

3- ما هو المبلغ المتبقي لدى المدير ؟

التصحيح النموذجي لاختبار الدعم (07) في اللغة العربية

العلامة مفصلة	العلامة كاملة	الأجوبة النموذجية																		
نقطة لكل جواب	3 نقاط	<p><u>أ / أجوبة الفهم :</u></p> <p>1/ يكون حزن الطبيعة في فصل الشتاء في فراق الفصول البهيجة ويكون استبشارها في الأمطار التي تتساقط على التربة الجافة .</p> <p><u>2/ مرادف الكلمات</u></p> <table border="1"> <tr> <td>الكلمة</td> <td>مرادفها</td> </tr> <tr> <td>القائمة</td> <td>الداكنة ، السوداء</td> </tr> <tr> <td>يمرحون</td> <td>يلعبون</td> </tr> </table> <p><u>3/ عنوان النص :</u> فصل الشتاء ، وصف الشتاء ، الشتاء</p>	الكلمة	مرادفها	القائمة	الداكنة ، السوداء	يمرحون	يلعبون												
الكلمة	مرادفها																			
القائمة	الداكنة ، السوداء																			
يمرحون	يلعبون																			
1.25 للإعراب 1 للتحويل 0.5 للاستخراج 0.25 لتعليل الهمزة	3 نقاط	<p><u>ب/ أجوبة اللغة :</u></p> <p><u>1/ الإعراب :</u></p> <table border="1"> <tr> <td>الكلمة</td> <td>إعرابها</td> </tr> <tr> <td>حزينة</td> <td>خبر أصبح منصوب وعلامة نصبه الفتحة الظاهرة على آخره</td> </tr> <tr> <td>خرجوا</td> <td>فعل ماض مبني على الضم لاتصاله بواو الجماعة وواو الجماعة ضمير متصل مبني في محل رفع فاعل .</td> </tr> <tr> <td>البرد</td> <td>مضاف إليه مجرور وعلامة جره الكسرة الظاهرة على آخره .</td> </tr> </table> <p><u>2/ التحويل إلى المثني :</u></p> <p>وأما الطفلان اللذان كانا يمرحان في الطريق فقد أصبخت أسنانهما تصنطك .</p> <p><u>2/ ملء الجدول من النص :</u></p> <table border="1"> <tr> <td>جمع تكسير</td> <td>صفة</td> </tr> <tr> <td>الغيوم ، الجبال ، الفصول ، الأمطار ، العصفير ، الأطفال...</td> <td>القائمة ، المتساقطة ، العليل ، القارس</td> </tr> </table> <p><u>4/ تعليل الهمزة :</u></p> <table border="1"> <tr> <td>الكلمة</td> <td>نوع الهمزة</td> <td>التعليل</td> </tr> <tr> <td>الدفء</td> <td>متطرفة على السطر</td> <td>لأن ما قبلها ساكن .</td> </tr> </table>	الكلمة	إعرابها	حزينة	خبر أصبح منصوب وعلامة نصبه الفتحة الظاهرة على آخره	خرجوا	فعل ماض مبني على الضم لاتصاله بواو الجماعة وواو الجماعة ضمير متصل مبني في محل رفع فاعل .	البرد	مضاف إليه مجرور وعلامة جره الكسرة الظاهرة على آخره .	جمع تكسير	صفة	الغيوم ، الجبال ، الفصول ، الأمطار ، العصفير ، الأطفال...	القائمة ، المتساقطة ، العليل ، القارس	الكلمة	نوع الهمزة	التعليل	الدفء	متطرفة على السطر	لأن ما قبلها ساكن .
الكلمة	إعرابها																			
حزينة	خبر أصبح منصوب وعلامة نصبه الفتحة الظاهرة على آخره																			
خرجوا	فعل ماض مبني على الضم لاتصاله بواو الجماعة وواو الجماعة ضمير متصل مبني في محل رفع فاعل .																			
البرد	مضاف إليه مجرور وعلامة جره الكسرة الظاهرة على آخره .																			
جمع تكسير	صفة																			
الغيوم ، الجبال ، الفصول ، الأمطار ، العصفير ، الأطفال...	القائمة ، المتساقطة ، العليل ، القارس																			
الكلمة	نوع الهمزة	التعليل																		
الدفء	متطرفة على السطر	لأن ما قبلها ساكن .																		
1.5 ن للمطلوب نقطة واحدة للتوظيف و0.25 لكل خطوة من الخطوات المتبقية	4 نقاط	<p><u>ج/ الوضعية الإجمالية :</u></p> <ul style="list-style-type: none"> - أن يكتب المتعلم فقرة من 08 إلى 12 سطرا . - أن لا يخرج عن الموضوع أو يعيد كتابة النص . - يتحدث على حالته أثناء وبعد أن تساقطت عليه الأمطار . - أن يوظف المتعلم علامات الوقف وبياض الفقرات . - أن يوظف المتعلم الشواهد (آية ، حديث ، حكمة) . - توظيف جمع مؤنث سالم وصفة . 																		

التصحيح النموذجي لاختبار الدعم رقم (07) في الرياضيات

العلامة بالنقطة	العلامة كلية	حلول التمارين المقدمة
0.25 لكل إجابة صحيحة	1.5	<p>التمرين الأول : التلوين حسب كل كسر :</p>  <p>$\frac{1}{2}$</p> <p>$\frac{1}{3}$</p> <p>$\frac{3}{4}$</p>
0.25 لكل إجابة	1.5	<p>التمرين الثاني : احصر الكسور التالية بين عددين طبيعيين :</p> <p>$0 < \frac{9}{9} < 2$ $0 < \frac{8}{5} < 1$ $3 < \frac{20}{5} < 5$</p>
0.25 لكل خطوة	1.5	<p>التمرين الثالث : 1/ طول السياج بالمنز هو : 32 متر</p> <p>$3200 \text{ cm} = 32 \text{ m}$</p> <p>2/ ثمن السياج هو : 8000 دينار</p> <p>250</p> <p>الأجوبة</p> <p>$250 \times 32 = 8000 \text{ DA}$</p> <p>الحل</p> <p>العمليات</p> $\begin{array}{r} \times 32 \\ = 500 \\ +750 . \\ \hline = 8000 \end{array}$

0.25 لكل اجابة	1.5	<p style="text-align: right;"><u>التمرين الرابع :</u></p> <p>1/ زاويتين قائمتين : \widehat{OBC} \widehat{OBA}</p> <p>2/ زاويتين حادتين : \widehat{OCB} \widehat{BCD}</p> <p>3/ زاوية منفرجة : \widehat{ADC}</p> <p>4/ زاوية مستقيمة : \widehat{ABC}</p>	
0.5 لكل عملية عمودية و 0.5 لكل عملية افقية و 0.25 لكل عنوان اجابة صحيح	4 نقاط	<p style="text-align: center;"><u>العملیات</u></p> <p style="text-align: center;"><u>الحل</u></p> $\begin{array}{r} 2450 \\ \text{دينار} \\ + 5460 \\ + 2400 \\ \hline = 10310 \end{array}$ $\begin{array}{r} 5460 \\ \times 2 \\ \hline = 10920 \end{array}$ $\begin{array}{r} -10310 \\ \hline = 00610 \end{array}$	<p style="text-align: center;"><u>الأجوبة</u></p> <p>1/ ثمن المشتريات هو : 2650</p> <p>$2450 + 5460 + 2400 = 10310 \text{ DA}$</p> <p>2/ المبلغ الكلي الذي كان عند المدير هو : 10920 دينار</p> <p>$5460 \times 2 = 10920$</p> <p>3/ المبلغ المتبقى عند المدير هو : 610 دينار</p> <p>$10920 - 10310 = 610 \text{ DA}$</p>

اختبار دعم رقم (08) في نشاط اللغة العربية

السند :

إن تلوث البيئة والمحيط الذي يعيش فيه الإنسان ، يأتي من المصانع التي تنطلق منها غازات سامة ، وفضلات مضرّة بالإنسان والحيوان والنبات . ويأتي أيضاً من المياه القذرة ، والأوساخ المتناثرة في شوارع المدن والقرى مسببة تلوث البيئة وإصابة الإنسان بأمراض خطيرة ومزمنة وبهذا ينتجر الإنسان وهولا يذري، وبأعماله هذه يساهم كذلك في تدمير المحيط تدميراً يصعب علاجه في المستقبل . إذا لم يتحمل الجميع مسؤولية الحفاظ على البيئة فإن الكارثة حتماً ستعم الجميع دون استثناء ، (وأنت عزيزي التلميذ طرّفنا إيجابياً لحل هذه المعضلة)، إذا تصرفت تصرفات وقائية لتجنب كل ما يسيء إلى محيطك البيئي .

(أ) أسئلة الفهم : (03 نقاط)

- 1/ ماذا يسبب التلوث ؟
- 2/ هات مرادف الكلمتين التاليتين: فضلات ، المعضلة .
- 3/ هات ضد الكلمتين التاليتين من السند : المتجمعة ، سلبياً .

(ب) أسئلة اللغة : (03 نقاط)

- 1/ استخرج من السند : جمعا مؤنثا سالما ، ضميراً منفصلاً ، اسم إشارة
- 2/ اعرّب ما تحته خط في السند .
- 3/ علل سبب كتابة الهمزة في كلمة : وقائية .
- 4/ حول العبارة الموجودة بين قوسين في السند الى جماعة المخاطبين .

(ج) الوضعية الادماجية (4 نقاط)

إن تلوث البيئة هو من أهم التحديات التي تواجه البشرية في هذا العصر .
اكتب موضوع من 8 الى 12 سطرا تتحدث فيه عن أسباب انتشار التلوث في كوكب الارض ونتائجه السلبية على جميع الكائنات الحية ومقترحا بعض الحلول لمكافحته موظفاً جمع مذكر سالم وهمزة متوسطة على الواو مسطرا تحتها .

اختبار دعم رقم (08) في نشاط الرياضيات

التمرين الأول : 1.5 نقطة

اكتب الكسور العشرية على شكل أعداد عشرية والعكس :

$$\frac{234}{10} = \dots\dots\dots$$

$$\frac{160}{100} = \dots\dots\dots$$

$$\frac{245}{1000} = \dots\dots\dots$$

$$16,24 = \dots\dots\dots$$

$$0,005 = \dots\dots\dots$$

$$645,2 = \dots\dots\dots$$

التمرين الثاني : 1.5 نقطة

اكتب الكسور التالية على شكل عدد طبيعي و كسر أصغر من 1 :

$$\frac{17}{4}$$

,

$$\frac{16}{5}$$

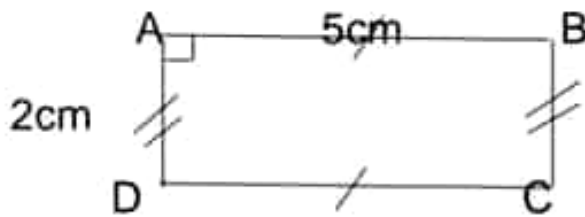
,

$$\frac{14}{3}$$

التمرين الثالث : 1.5 نقطة

اشترى الأب لابنه مَحْفَظَةً ومَنْزَرًا بمبلغ قدره 7650 دينارًا.
- إذا علمت أن ثمن المَحْفَظَةِ 3800 دينارًا ، فما هو ثمن المنزّر؟

التمرين الرابع : 1.5 نقطة



لاحظ الشكل المقابل .

1/ ما نوع الزاوية DAB

2/ استخرج قطعتين متقايسيتين

3/ احسب محيط الشكل ABCD

لوضعية الإدماجية : (4 نقاط)

أراد الأب أن يُوَصِّلَ الماء إلى بَيْتِهِ فاشترى أنبوبًا ثمنه 950 دينارًا ، وغذاذاً ثمنه 5460 دينارًا.

1- أحسب ثمن شراء الأنبوب و الغذاد معا .

استغرق توصيل الماء ثلاثة أيام .

2- ما هي أجرة العامل إذا دفع الأب للعامل 850 دينارًا كأجرة للأيوم الواحد؟

3- احسب كلفة إيصال الماء للمنزل .

التصحيح النموذجي لاختبار الدعم (08) في اللغة العربية

العلامة مفصلة	العلامة كاملة	الأجوبة النموذجية																				
نقطة لكل جواب	3 نقاط	<p>أ / أجوبة الفهم :</p> <p>1/ يسبب التلوث أمراضاً خطيرة و مزمنة .</p> <p>2/ مرادف الكلمات</p> <table border="1"> <tr> <td>الكلمة</td> <td>مرادفها</td> </tr> <tr> <td>المعضلة</td> <td>المشكلة</td> </tr> <tr> <td>فضلات</td> <td>أوساخ</td> </tr> </table> <p>3/ أضداد الكلمات :</p> <table border="1"> <tr> <td>الكلمة</td> <td>ضدها</td> </tr> <tr> <td>المتجمعة</td> <td>المتناثرة</td> </tr> <tr> <td>سلبية</td> <td>إيجابية</td> </tr> </table>	الكلمة	مرادفها	المعضلة	المشكلة	فضلات	أوساخ	الكلمة	ضدها	المتجمعة	المتناثرة	سلبية	إيجابية								
الكلمة	مرادفها																					
المعضلة	المشكلة																					
فضلات	أوساخ																					
الكلمة	ضدها																					
المتجمعة	المتناثرة																					
سلبية	إيجابية																					
0.75 للاستخراج 1.25 للإعراب 0.5 لتعليل الهجرة 0.5 للتحويل	3 نقاط	<p>ب/ أجوبة اللغة :</p> <p>1/ الاستخراج من المسند :</p> <table border="1"> <tr> <td>جمع مؤنث سالم</td> <td>ضمير منفصل</td> <td>اسم إشارة</td> </tr> <tr> <td>غازات ، فضلات ، نبات</td> <td>أنت ، هو</td> <td>هذه ، هذا</td> </tr> </table> <p>2/ الاعراب :</p> <table border="1"> <tr> <td>الكلمة</td> <td>اعرابها</td> </tr> <tr> <td>القدر</td> <td>صفة مجرورة وعلامة جرّها الكسرة الظاهرة على آخرها</td> </tr> <tr> <td>يتحمل</td> <td>فعل مضارع مجزوم بلم وعلامة جزمه السكون الظاهرة على آخره .</td> </tr> <tr> <td>الكارثة</td> <td>اسم إن منصوب وعلامة نصبه الفتحة الظاهرة على آخره .</td> </tr> </table> <p>3/ تعليل الهمزة :</p> <table border="1"> <tr> <td>الكلمة</td> <td>نوع الهمزة</td> <td>التعليل</td> </tr> <tr> <td>وقائية</td> <td>متوسطة على النبرة</td> <td>لأنها مكسورة .</td> </tr> </table> <p>4/ التحويل مع جماعة المخاطبين :</p> <p>وَأَنْتُمْ أَعْرَاضِي الْقَلَامِ بِطَرَفٍ إِيْجَابِيًّا لِخَلِّ هَذِهِ الْمُعْضَلَةَ</p>	جمع مؤنث سالم	ضمير منفصل	اسم إشارة	غازات ، فضلات ، نبات	أنت ، هو	هذه ، هذا	الكلمة	اعرابها	القدر	صفة مجرورة وعلامة جرّها الكسرة الظاهرة على آخرها	يتحمل	فعل مضارع مجزوم بلم وعلامة جزمه السكون الظاهرة على آخره .	الكارثة	اسم إن منصوب وعلامة نصبه الفتحة الظاهرة على آخره .	الكلمة	نوع الهمزة	التعليل	وقائية	متوسطة على النبرة	لأنها مكسورة .
جمع مؤنث سالم	ضمير منفصل	اسم إشارة																				
غازات ، فضلات ، نبات	أنت ، هو	هذه ، هذا																				
الكلمة	اعرابها																					
القدر	صفة مجرورة وعلامة جرّها الكسرة الظاهرة على آخرها																					
يتحمل	فعل مضارع مجزوم بلم وعلامة جزمه السكون الظاهرة على آخره .																					
الكارثة	اسم إن منصوب وعلامة نصبه الفتحة الظاهرة على آخره .																					
الكلمة	نوع الهمزة	التعليل																				
وقائية	متوسطة على النبرة	لأنها مكسورة .																				
1.5 ن للمطلوب نقطة واحدة للتوظيف و0.25 لكل خطوة من الخطوات المتبقية	4 نقاط	<p>ج/ الوضعية الإنماجية :</p> <ul style="list-style-type: none"> - أن يكتب المتعلم فقرة من 08 إلى 12 سطرا . - أن لا يخرج عن الموضوع أو يعيد كتابة النص . - التحدث عن أسباب التلوث ونتاجه المقترحة لمكافحته . - أن يوظف المتعلم علامات الوقف وبياض الفقرات . - أن يوظف المتعلم الشواهد (آية ، حديث ، حكمة) . - توظيف جمع مذكر سالم وكلمة فيها همزة متوسطة على النبرة . 																				

التصحيح النموذجي لاختبار الدعم رقم (08) في الرياضيات

العلامة بالنقطة	العلامة كاملة	حلول التمارين المقامة
0.25 لكل إجابة صحيحة	1.5	<p>التمرين الأول : كتابة الكسور العشرية على شكل أعداد عشرية والعكس :</p> $\frac{234}{10} = 23.4$ $\frac{160}{100} = 1.6$ $\frac{245}{1000} = 0.245$ $16,24 = \frac{1624}{100}$ $0,005 = \frac{5}{1000}$ $645,2 = \frac{6452}{10}$
0.5 لكل إجابة	1.5	<p>التمرين الثاني : كتابة الكسور على شكل عدد طبيعي وكسر أصغر من 1 :</p> $\frac{17}{4} = \frac{16}{4} + \frac{1}{4} = 4 + \frac{1}{4}$ $\frac{16}{5} = \frac{15}{5} + \frac{1}{5} = 3 + \frac{1}{5}$ $\frac{14}{3} = \frac{12}{3} + \frac{2}{3} = 4 + \frac{2}{3}$
0.5 لكل خطوة	1.5	<p>التمرين الثالث : 1/ ثمن المنزر هو : 3850 دينار</p> <p>الأجوبة</p> $7650 - 3800 = 3850 \text{ DA}$ <p>7650</p> <p>الحل</p> $\begin{array}{r} - 3800 \\ 7650 \\ \hline = 3850 \end{array}$ <p>العمليات</p>

<p>0.5 لكل إجابة</p>	<p>1.5</p>	<p><u>التعريف الرابع</u> 1/ الزاوية DAB هي زاوية قائمة . 2/ قطعتان متقايستان : [CD] = [AB] أو [BC] = [AD] 3/ محيط الشكل هو : 14 سنتيمتر . $(5+2) \times 2 = 7 \times 2 = 14 \text{ cm}$</p>	
<p>0.5 لكل عملية عمودية و 0.5 لكل عملية افقية و 0.25 لكل عنوان إجابة صحيح</p>	<p>4 نقاط</p>	<p><u>العمليات</u></p> $\begin{array}{r} 5460 \\ + 950 \\ \hline =6410 \end{array}$ $\begin{array}{r} 850 \\ \times 3 \\ \hline =2550 \end{array}$ $\begin{array}{r} 6410 \\ + 2550 \\ \hline = 8960 \end{array}$	<p><u>الأجوبة</u></p> <p>1/ ثمن العداد والأنبوب هو : 6410 دينار $5460 + 950 = 6410 \text{ DA}$</p> <p>2/ اجرة العامل هي : 2550 دينار $850 \times 3 = 2550 \text{ DA}$</p> <p>3/ كلفة إيصال الماء هي : 8960 دينار $6410 + 2550 = 8960 \text{ DA}$</p>

اختبار دعم رقم (09) في نشاط اللغة العربية

النص :

امْطَى السَّابِقُ الْحَافِلَةَ، وَأَغْلَقَ الْبَابَ الْأَمَامِيَّ، وَمَا هِيَ إِلَّا لِحْظَاتٍ حَتَّى انْفَتَحَ الْبَابُ الْخَلْفِيُّ فَتَدَافَعُ الْمُسَافِرُونَ يَتَزَاخَمُونَ، يَرِيدُونَ الصُّعُودَ فِي وَاقْتٍ وَاحِدٍ، وَيَجْزُونَ نَحْوَ الْمَقَاعِدِ الشَّاعِرَةِ لِاحْتِلَالِهَا. وَلَمَّا هَذَا الرَّحَامُ قَلِيلًا، صَعِدَتْ امْرَأَةٌ عَجُوزٌ عَلَى مَهَلٍ فَوَجَدَتْ الْحَافِلَةَ مَلِيئَةً بِالرُّكَّابِ، وَكُلُّ الْأَمَاكِنِ مَشْغُولَةٌ، فَأَمْسَكَتْ بِعُمُودٍ مَغْبِيٍّ، وَظَلَّتْ وَاقِفَةً، (فَتَقَطَّنَ لِخَالِهَا شَابٌ مُؤَدَّبٌ تَبَدُّو عَلَيْهِ عِلَامَاتُ النَّشَاطِ وَالْحَيَاءِ)، فَقَامَ وَآخَذَ بِيَدِهَا فِي لُطْفٍ، وَأَلَحَّ عَلَيْهَا كَيْ تَجْلِسَ مَكَانَهُ، فَارْتَمَتْ عَلَى الْمَقْعَدِ وَهِيَ تَدْعُو لِلشَّابِّ بِالْخَيْرِ. وَقَضَتْ الْعَجُوزُ سَفَرَهَا مَنَاكِنَ مُطْمَئِنَّةً، وَنَالَ الشَّابُّ مُقَابِلَ إِثَارِهِ وَتَعَبِهِ دُعَاءَ صَالِحًا، وَرَاحَةً لِلضَّمِيرِ.

أ- أسئلة الفهم:

- 1- هات عنواناً للنص.
- 2- بماذا أمسكت العجوز عند صعودها الحافلة ؟
- 3- استخرج من النص مرادف الكلمات التالية : ركب - الفارغة - الخجل .

ب- أسئلة اللغة:

- 1- أعرب ما تحته خط في النص .
- 2- املأ الجدول من النص:

فعل من الأفعال الخمسة	جمع مؤنث سالم
.....

- 3- علل سبب رسم الهمزة في كلمة : مؤدَّب .
- 4- حول العبارة التي بين قوسين إلى المثني .

ج- الوضعية الإدماجية:

في أحد الأيام وجدت شيخا كبيرا يريد أن يعبر طريقا مزدحما بالسيارات. تحدث عن مساعدتك لهذا الشيخ، في فقرة من 8-10 أسطر موظفا جملاً فعلية .

اختبار دعم رقم (09) في الرياضيات

التمرين الأول : 1.5 نقطة

قارن بين الكمور التالية باستخدام الرمز المناسب (> أو ، أو =) .

$$\frac{3}{2} \dots \frac{6}{4} \quad , \quad \frac{6}{10} \dots \frac{5}{7} \quad , \quad \frac{9}{6} \dots \frac{3}{5}$$

التمرين الثاني : 1.5 نقطة

تدر بقرّة خلال 3 أيام 5 لتر من الحليب أكمل الجدول التالي :

عدد الأيام	3	6	9	12	18
الحليب بـ L	5

* تحقق أن هذه الوضعية هي وضعية تناسبية .

التمرين الثالث : 1.5 نقطة

يعمل عامل بأجرة قدرها : 2500 دينار لليوم الواحد .

1/ ما هي أجرة العامل خلال أسبوع ؟

2/ ما هي أجرة العامل خلال أربعة أسابيع ؟

التمرين الرابع : 1.5 نقطة

ارسم المستقيم A يعامد المستقيم K في النقطة B .

ارسم مستقيم H يعامد المستقيم K في النقطة C .

ماذا نقول عن المستقيمين A و H .

اذكر القطع المستقيمة الموجودة في الشكل .

الوضعية الإدماجية : (4 نقاط)

اشترى تاجر 6 لفات من القماش طول كل لفة 92 m .

1/ ما هو طول القماش الذي اشتراه التاجر ؟

باع في المرة الأولى 200 m وباع في المرة الثانية : 100 m وباع في المرة الثالثة 89 m .

2/ ما هو طول القماش المباع ؟

3/ ما هو طول القماش المتبقي ؟

4/ عبر عن طول القماش المتبقي بالسنتيمتر .

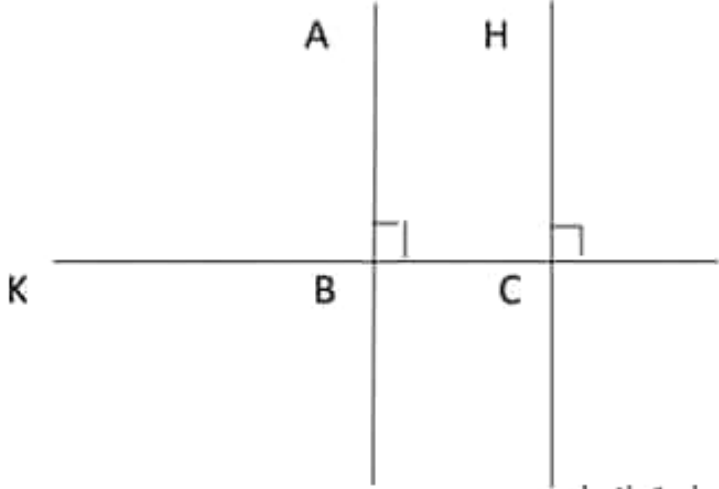
التصحيح النموذجي لاختبار الدعم (09) في اللغة العربية

العلامة مفصلة	العلامة كاملة	الأجوبة النموذجية																		
1 للعنوان 0.5 للجواب الثاني 0.5 لكل مرادف صحيح	3 نقاط	<p>أ / أجوبة الفهم :</p> <p>1/ عنوان النص هو : الشاب المؤدب ، إيثار الشاب .</p> <p>2/ أمسكت العجوز بعمود كهربائي .</p> <p>3/ مرادف الكلمات :</p> <table border="1"> <tr> <td>الكلمة</td> <td>مرادفها</td> </tr> <tr> <td>ركب</td> <td>امتطى</td> </tr> <tr> <td>الفارغة</td> <td>الشاغرة</td> </tr> <tr> <td>الخجل</td> <td>الحياء</td> </tr> </table>	الكلمة	مرادفها	ركب	امتطى	الفارغة	الشاغرة	الخجل	الحياء										
الكلمة	مرادفها																			
ركب	امتطى																			
الفارغة	الشاغرة																			
الخجل	الحياء																			
0.5 للاستخراج 1.5 للإعراب 0.25 لتعليل الهمزة 0.75 للتحويل	3 نقاط	<p>ب/ أجوبة اللغة :</p> <p>1/ الاستخراج من السند :</p> <table border="1"> <tr> <td>جمع مؤنث سالم</td> <td>فعل من الأفعال الخمسة</td> </tr> <tr> <td>لحظات ، علامات</td> <td>يتزاحمون ، يجرون</td> </tr> </table> <p>2/ الأعراب :</p> <table border="1"> <tr> <td>الكلمة</td> <td>اعرابها</td> </tr> <tr> <td>المسافرون</td> <td>فاعل مرفوع وعلامة رفعه الواو لأنه جمع مذكر سالم .</td> </tr> <tr> <td>واقفة</td> <td>خبر ظل منصوب وعلامة نصبه الفتحة الظاهرة على آخره .</td> </tr> <tr> <td>تجلس</td> <td>فعل مضارع منصوب بكى وعلامة نصبه الفتحة الظاهرة على آخره والفاعل ضمير مستتر تقديره هي .</td> </tr> </table> <p>3/ تعليل الهمزة :</p> <table border="1"> <tr> <td>الكلمة</td> <td>نوع الهمزة</td> <td>التعليل</td> </tr> <tr> <td>مؤدب</td> <td>متوسطة على الواو</td> <td>لأنها مفتوحة بعد ضم .</td> </tr> </table> <p>4/ التحويل إلى المثني :</p> <p>فَتَقَطَّنْ لِخَالَهَا شَابَانٌ مُؤَدَّبَانِ تَبْدُو عَلَيْهِمَا عَلَامَاتُ الشُّطَاطِ وَالْحَيَاءِ</p>	جمع مؤنث سالم	فعل من الأفعال الخمسة	لحظات ، علامات	يتزاحمون ، يجرون	الكلمة	اعرابها	المسافرون	فاعل مرفوع وعلامة رفعه الواو لأنه جمع مذكر سالم .	واقفة	خبر ظل منصوب وعلامة نصبه الفتحة الظاهرة على آخره .	تجلس	فعل مضارع منصوب بكى وعلامة نصبه الفتحة الظاهرة على آخره والفاعل ضمير مستتر تقديره هي .	الكلمة	نوع الهمزة	التعليل	مؤدب	متوسطة على الواو	لأنها مفتوحة بعد ضم .
جمع مؤنث سالم	فعل من الأفعال الخمسة																			
لحظات ، علامات	يتزاحمون ، يجرون																			
الكلمة	اعرابها																			
المسافرون	فاعل مرفوع وعلامة رفعه الواو لأنه جمع مذكر سالم .																			
واقفة	خبر ظل منصوب وعلامة نصبه الفتحة الظاهرة على آخره .																			
تجلس	فعل مضارع منصوب بكى وعلامة نصبه الفتحة الظاهرة على آخره والفاعل ضمير مستتر تقديره هي .																			
الكلمة	نوع الهمزة	التعليل																		
مؤدب	متوسطة على الواو	لأنها مفتوحة بعد ضم .																		
1.5 للمطلوب نقطة واحدة للتوظيف و0.25 لكل خطوة من الخطوات المتبقية	4 نقاط	<p>ج/ الوضعية الإدماجية :</p> <ul style="list-style-type: none"> - أن يكتب المتعلم فقرة من 08 إلى 12 سطرا . - أن لا يخرج عن الموضوع أو يعيد كتابة النص . - التحدث عن كيفية مساعدة الشيخ في قطع الطريق . - أن يوظف المتعلم علامات الوقف وبياض الفقرات . - أن يوظف المتعلم الشواهد (آية ، حديث ، حكمة) . - توظيف جمع مذكر سالم وكلمة فيها همزة متوسطة على النبرة . 																		

التصحيح النموذجي لاختبار الدعم رقم (09) في الرياضيات

العلامة بالفصيل	العلامة كاملة	حلول التمارين المقدمة												
0.5 لكل إجابة صحيحة	1.5	<p>التمرين الأول : المقارنة بين الكسور باستخدام الرمز المناسب (> أو ، أو =) .</p> $\frac{3}{2} = \frac{6}{4} , \quad \frac{6}{10} < \frac{5}{7} , \quad \frac{9}{6} > \frac{3}{5}$												
1 ملء الجدول و 0.5 للتحقق	1.5	<p>التمرين الثاني : إكمال الجدول :</p> <table border="1" style="margin-left: auto; margin-right: auto;"> <tr> <td>عدد الأيام</td> <td>3</td> <td>6</td> <td>9</td> <td>12</td> <td>18</td> </tr> <tr> <td>الحليب بـ L</td> <td>5</td> <td>10</td> <td>15</td> <td>20</td> <td>30</td> </tr> </table> <p>التأكد من أن الوضعية تناسبية :</p> $\frac{6}{10} = \frac{9}{15} \quad 10 \times 9 = 90 \quad 15 \times 6 = 90$	عدد الأيام	3	6	9	12	18	الحليب بـ L	5	10	15	20	30
عدد الأيام	3	6	9	12	18									
الحليب بـ L	5	10	15	20	30									
0.25 لكل خطوة	1.5	<p>التمرين الثالث : <u>الأجوبة</u></p> <p>1/ أجره العامل خلال أسبوع هي : 17500 دينار $2500 \times 7 = 17500 \text{ DA}$</p> <p style="text-align: right;">2500</p> <p>2/ أجره العامل خلال أربعة أسابيع هي : 70000 دينار $17500 \times 4 = 70000 \text{ DA}$</p>												

التمرين الرابع

<p>1 للرسم 0.5 للاجابة</p>	<p>1.5</p>	 <p>نقول عن المستقيمين A و H أنهما متوازيان - القطع المستقيمة الموجودة في الشكل هي: [BC] <u>الوضعية الإدماجية:</u></p>															
<p>0.5 لكل عملية عمودية و 0.5 لكل عملية افقية و 0.25 لكل عنوان اجابة صحيح</p>	<p>4 نقاط</p>	<table border="1"> <thead> <tr> <th data-bbox="261 837 580 985">العمليات</th> <th data-bbox="580 837 1059 985">الحل</th> <th data-bbox="1059 837 1564 985">الأجوبة</th> </tr> </thead> <tbody> <tr> <td data-bbox="261 985 580 1263"> $\begin{array}{r} 92 \\ \times 6 \\ \hline = 552 \end{array}$ </td> <td data-bbox="580 985 1059 1263"> <p>1/ طول القماش الذي اشتراه التاجر هو : 552 متر $92 \times 6 = 552 \text{ m}$</p> </td> <td data-bbox="1059 985 1564 1263"></td> </tr> <tr> <td data-bbox="261 1263 580 1545"> $\begin{array}{r} 200 \\ + 100 \\ + 89 \\ \hline = 389 \end{array}$ </td> <td data-bbox="580 1263 1059 1545"> <p>2/ طول القماش المباع هو : 389 متر $200 + 100 + 89 = 389 \text{ m}$</p> </td> <td data-bbox="1059 1263 1564 1545"></td> </tr> <tr> <td data-bbox="261 1545 580 1742"> $\begin{array}{r} 552 \\ - 389 \\ \hline = 163 \end{array}$ </td> <td data-bbox="580 1545 1059 1742"> <p>3/ طول القماش المتبقي هو : 163 متر $552 - 389 = 163 \text{ m}$</p> </td> <td data-bbox="1059 1545 1564 1742"></td> </tr> <tr> <td data-bbox="261 1742 580 1939"></td> <td data-bbox="580 1742 1059 1939"> <p>4/ طول القماش المتبقي بالسنتيمتر هو 16300 سنتيمتر $163 \text{ m} = 16300 \text{ m}$</p> </td> <td data-bbox="1059 1742 1564 1939"></td> </tr> </tbody> </table>	العمليات	الحل	الأجوبة	$\begin{array}{r} 92 \\ \times 6 \\ \hline = 552 \end{array}$	<p>1/ طول القماش الذي اشتراه التاجر هو : 552 متر $92 \times 6 = 552 \text{ m}$</p>		$\begin{array}{r} 200 \\ + 100 \\ + 89 \\ \hline = 389 \end{array}$	<p>2/ طول القماش المباع هو : 389 متر $200 + 100 + 89 = 389 \text{ m}$</p>		$\begin{array}{r} 552 \\ - 389 \\ \hline = 163 \end{array}$	<p>3/ طول القماش المتبقي هو : 163 متر $552 - 389 = 163 \text{ m}$</p>			<p>4/ طول القماش المتبقي بالسنتيمتر هو 16300 سنتيمتر $163 \text{ m} = 16300 \text{ m}$</p>	
العمليات	الحل	الأجوبة															
$\begin{array}{r} 92 \\ \times 6 \\ \hline = 552 \end{array}$	<p>1/ طول القماش الذي اشتراه التاجر هو : 552 متر $92 \times 6 = 552 \text{ m}$</p>																
$\begin{array}{r} 200 \\ + 100 \\ + 89 \\ \hline = 389 \end{array}$	<p>2/ طول القماش المباع هو : 389 متر $200 + 100 + 89 = 389 \text{ m}$</p>																
$\begin{array}{r} 552 \\ - 389 \\ \hline = 163 \end{array}$	<p>3/ طول القماش المتبقي هو : 163 متر $552 - 389 = 163 \text{ m}$</p>																
	<p>4/ طول القماش المتبقي بالسنتيمتر هو 16300 سنتيمتر $163 \text{ m} = 16300 \text{ m}$</p>																

اختبار دعم رقم (10) في نشاط الرياضيات

التمرين الأول : 1.5 نقطة

اكتب ما يلي على شكل كسر :

$$3 + \frac{1}{4}$$

$$3 + \frac{3}{5}$$

$$6 - \frac{2}{3}$$

+

التمرين الثاني : 1.5 نقطة

حدد مرتبة الرقم 6 في كل عدد من الأعداد التالية :

العدد	مرتبة الرقم 6	العدد	مرتبة الرقم 6
146,001	2,068
12,689	765,28
658,3	3,006

التمرين الثالث : 1.5 نقطة

بلغ إنتاج 5 أشجار من الزيتون 225 كيلو غرام .

- احسب إنتاج 10 أشجار .

التمرين الرابع : 1.5 نقطة

لاحظ الشكل المقابل ثم أكمل ما يلي :

- المستقيم (D) المستقيم (K) .

- المستقيم (X) المستقيم (D) .

- الزاوية \widehat{BAC} هي زاوية

- الوضعية الإدماجية : (4 نقاط)

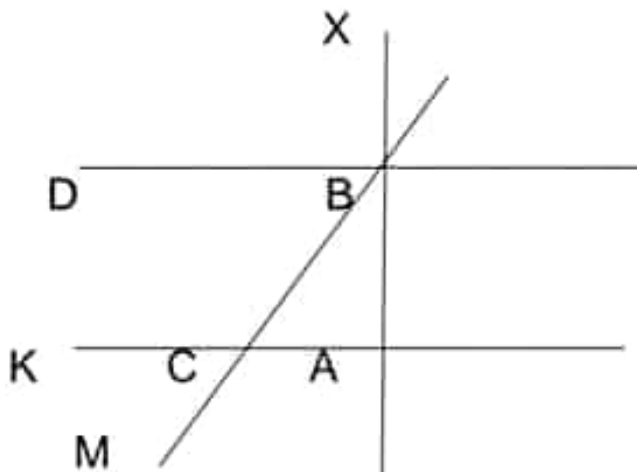
اشترى الأب خزانة بثمن 22500 دينار و ثلاجة بثمن 40000 دينار .

1/ أحسب ثمن الخزانة والثلاجة معا .

دفع في المرة الأولى مبلغ 47500 دينار والباقي دفعه بالتقسيط على 3 دفعات .

2/ أحسب المبلغ الباقي .

3/ أحسب قيمة الدفعة الواحدة .



اختبار دعم رقم (10) في اللغة العربية

النص :

إن الماء أساس الحياة ، فلا حياة بدون الماء فلو حَبَسناه عن حيوان لمات عطشا ، ولو حَرَمنا منه نباتاً لذبل بعد نُظرةٍ واصفر بعد خضرةٍ . ولم نَعْرِفْ أن كاننا حيا استغنى عن الماء، ذلك لأن كُل العمليات الحيوية في الجسم لا تتم إلا في الوسط المائي . وازدهرت كثيرٌ من الحضارات القديمة بسبب نُصُوب المياه كما قامت الحروب والنزاعات حول نبع أو نهر أو واد..
ويعطي الماء أكثر من ثلثي الأرض ، ويوجد على أشكال متعددة ، سائلا و متجمدا وبخارا، إلا أن الكثير من المياه لا يستفيد منها الإنسان بسبب الملوحة كماء البحار والمحيطات . ورغم هذا تُستفيد بعض من الدول من المياه المالحة وذلك بإنشاء محطات تحلية المياه .
ولا شك أن الماء ثروةٌ وحب الجفاظ عليها ، ليس في استهلاكه بطريقة معقولة و عدم إسرافه فقط ، وإنما بحمايته من التلوث أيضا. فتلوث البحار والأنهار مشكلة خطيرة تؤثر على صحة الإنسان وتضر بحياة الطيور والكانونات البحرية ، كما تقضي على كثير من مظاهر الحياة في المسطحات المائية وما يُحيط بها.

أسئلة البناء الفكري : (3ن)

- 1- ماهي نسبة الماء التي تغطي الكرة الأرضية؟
- 2- كيف تستفيد الدول من المياه المالحة ؟
- 3- استخرج من النص مرادف الكلمتين التاليتين : تطورت ، تنذره .

أسئلة البناء اللغوي: (3ن)

- 1- أعرب ما تحته خط في النص .
- 2- استخرج من النص : - فعلا صحيحا سالما.
- 3- علل سبب رسم الهمزة في كلمة " الماء " .
- 4- أسد العبارة التالية إلى الضمير: أنتم .
لا يمكن أن تعيش دون ماء ، لذا وجب علينا أن نحافظ على هذه النعمة .

الوضعية الإدماجية : (4ن)

يتعمد الكثير من الناس تضبيب الماء وإسرافه .

اكتب فقرة (من 8 إلى 12 سطرا) تقدم فيه التصح لهؤلاء ، مبرزاً أهمية الماء وضرورة المحافظة على هذه الثروة العظيمة ، موظفا أسلوب التوكيد وجمع منكر سالم وسطرهما .

التصحيح النموذجي لاختبار الدعم رقم (10) في الرياضيات

العلامة بالنقصيل	العلامة كاملة	حلول التمارين المقدمة																
0.5 لكل إجابة صحيحة	1.5	<p>التمرين الأول : الكتابة على شكل كسر :</p> $3 + \frac{1}{4} = \frac{12}{4} + \frac{1}{4} = \frac{13}{4}$ $3 + \frac{3}{5} = \frac{15}{5} + \frac{3}{5} = \frac{18}{5}$ $6 + \frac{2}{3} = \frac{18}{3} + \frac{2}{3} = \frac{20}{3}$																
0.25 لكل إجابة صحيحة	1.5	<p>التمرين الثاني : تحديد مرتبة الرقم 6 في كل عدد من الأعداد التالية :</p> <table border="1"> <thead> <tr> <th>عدد</th> <th>مرتبة الرقم 6</th> <th>العدد</th> <th>مرتبة الرقم 6</th> </tr> </thead> <tbody> <tr> <td>146,007</td> <td>وحدات</td> <td>2,068</td> <td>جزء من مئة</td> </tr> <tr> <td>12,689</td> <td>جزء من عشرة</td> <td>765,28</td> <td>عشرات</td> </tr> <tr> <td>658,3</td> <td>مئات</td> <td>3,006</td> <td>جزء من ألف</td> </tr> </tbody> </table>	عدد	مرتبة الرقم 6	العدد	مرتبة الرقم 6	146,007	وحدات	2,068	جزء من مئة	12,689	جزء من عشرة	765,28	عشرات	658,3	مئات	3,006	جزء من ألف
عدد	مرتبة الرقم 6	العدد	مرتبة الرقم 6															
146,007	وحدات	2,068	جزء من مئة															
12,689	جزء من عشرة	765,28	عشرات															
658,3	مئات	3,006	جزء من ألف															
0.5 لكل خطوة	1.5	<p>التمرين الثالث :</p> <p>الأجوبة</p> <p>1/ إنتاج عشرة أشجار هو : 450 كيلوغرام $2250 \times 2 = 450 \text{ Kg}$</p> <p>225</p> <p>الحل العمليات</p> $\begin{array}{r} \times \quad 2 \\ = \quad 450 \end{array}$																

0.5 لكل اجابة صحيحة	1.5	<p style="text-align: right;"><u>التمرين الرابع</u> ملء الفراغات حسب الرسم : - المستقيم (D) يوازي المستقيم (K) . - المستقيم (x) عمودي على المستقيم (D) - الزاوية \widehat{BAC} هي زاوية قائمة</p>	
0.5 لكل عملية عمودية و 0.5 لكل عملية افقية و 0.25 لكل عنوان اجابة صحيح 0.25 للتنظيم	4 نقاط	<p style="text-align: center;"><u>العمليات</u></p> $\begin{array}{r} 22500 \\ + 40000 \\ \hline = 62500 \end{array}$ <hr/> $\begin{array}{r} 62500 \\ - 47500 \\ \hline = 15000 \end{array}$ <hr/> $\begin{array}{r} \overline{15000} \quad \quad 3 \\ -15 \quad \quad \quad 5000 \\ \hline 00000 \end{array}$	<p style="text-align: center;"><u>الأجوبة</u></p> <p>1/ ثمن المشتريات هو : 552 دينار $22500 + 40000 = 62500 \text{ DA}$</p> <p>2/ المبلغ المتبقى هو : 15000 دينار $62500 - 47500 = 15000$</p> <p>3/ قيمة الدفعة الواحدة هي : 5000 دينار $15000 \div 3 = 5000 \text{ DA}$</p>

التصحيح النموذجي لاختبار الدعم (10) في اللغة العربية

العلامة مفصلة	العلامة كاملة	الأجوبة النموذجية														
1 للجواب الأول 1 للجواب الثاني 0.5 لكل مرادف صحيح	3 نقاط	<p><u>أ / أجوبة الفهم :</u></p> <p>1/ ويغطي الماء أكثر من ثلثي الأرض.</p> <p>2/ تستفيد بعض من الدول من المياه المالحة وذلك بإنشاء محطات تحلية المياه.</p> <p><u>3/ مرادف الكلمات :</u></p> <table border="1"> <tr> <td>الكلمة</td> <td>مرادفها</td> </tr> <tr> <td>تطور</td> <td>ازدهرت</td> </tr> <tr> <td>تبذيره</td> <td>إسرافه</td> </tr> </table>	الكلمة	مرادفها	تطور	ازدهرت	تبذيره	إسرافه								
الكلمة	مرادفها															
تطور	ازدهرت															
تبذيره	إسرافه															
0.25 للاستخراج 1.5 للإعراب 0.5 لتعليل الهمزة 0.75 للتحويل	3 نقاط	<p><u>ب/ أجوبة اللغة :</u></p> <p><u>1/ الاستخراج من النص :</u></p> <p>فعل صحيح سالم : حبسناه ، يعرف</p> <p><u>2/ الإعراب :</u></p> <table border="1"> <tr> <td>الكلمة</td> <td>اعرابها</td> </tr> <tr> <td>يعرف</td> <td>فعل مضارع مجزوم بلم وعلامة جزمه السكون الظاهرة على آخره والفاعل ضمير مستتر تقديره هو .</td> </tr> <tr> <td>المالحة</td> <td>صفة مجرورة وعلامة جزمها الكسرة الظاهرة على آخرها</td> </tr> <tr> <td>ثروة</td> <td>خبر أن مرفوع وعلامة رفعه الضمة الظاهرة على آخره</td> </tr> </table> <p><u>3/ لتعليل الهمزة :</u></p> <table border="1"> <tr> <td>الكلمة</td> <td>نوع الهمزة</td> <td>التعليل</td> </tr> <tr> <td>الماء</td> <td>منطرفة على السطر</td> <td>لأن ما قبلها مد ساكن</td> </tr> </table> <p><u>4/ التحويل مع جماعة المخاطبين :</u></p> <p>لا يمكن أن تعيشوا دون ماء ، لذا وجب عليكم أن تحافظوا على هذه النعمة .</p>	الكلمة	اعرابها	يعرف	فعل مضارع مجزوم بلم وعلامة جزمه السكون الظاهرة على آخره والفاعل ضمير مستتر تقديره هو .	المالحة	صفة مجرورة وعلامة جزمها الكسرة الظاهرة على آخرها	ثروة	خبر أن مرفوع وعلامة رفعه الضمة الظاهرة على آخره	الكلمة	نوع الهمزة	التعليل	الماء	منطرفة على السطر	لأن ما قبلها مد ساكن
الكلمة	اعرابها															
يعرف	فعل مضارع مجزوم بلم وعلامة جزمه السكون الظاهرة على آخره والفاعل ضمير مستتر تقديره هو .															
المالحة	صفة مجرورة وعلامة جزمها الكسرة الظاهرة على آخرها															
ثروة	خبر أن مرفوع وعلامة رفعه الضمة الظاهرة على آخره															
الكلمة	نوع الهمزة	التعليل														
الماء	منطرفة على السطر	لأن ما قبلها مد ساكن														
1.5 ن للمطلوب نقطة واحدة للتوظيف و0.25 لكل خطوة من الخطوات المتبقية	4 نقاط	<p><u>ج/ الوضعية الإبداعية :</u></p> <ul style="list-style-type: none"> - أن يكتب المتعلم فقرة من 08 إلى 12 سطرا . - أن لا يخرج عن الموضوع أو يعيد كتابة النص . - يتحدث عن أهمية الماء وضرورة المحافظة عليها . - أن يوظف المتعلم علامات الوقف وبياض الفقرات . - أن يوظف المتعلم الشواهد (آية ، حديث ، حكمة) . - توظيف جمع مذكر سالم وأسلوب توكيد . 														

اختبار دعم رقم (11) في نشاط الرياضيات

التمرين الأول (1.5):

اكتب الوحدة المناسبة :

45.6 m = 45600

45dam = 0.45

120 hm = 1200

التمرين الثاني (1.5):

اكتب الأعداد التالية بالأرقام أو بالحروف :

- خمسة وسبعون وحدة وثمانية أعشار ←

- 0.009 ←

- أربعمائة وسبعة وتسعون جزء من مائة ←

- 2.15 ←

- سبعة فاصل ثمانية عشر ←

- 45.256 ←

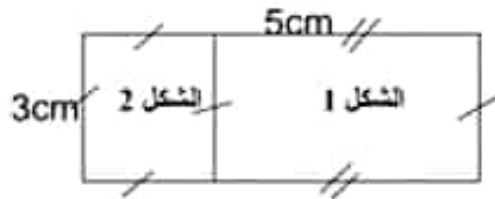
التمرين الثالث (1.5) :

تنتج لنا كل 4 أشجار زيتون 20 لترا من زيت الزيتون ، أكمل الجدول :

عدد الأشجار	2	4	8	16
سعة الزيت بـ L	20	60

احسب معامل التناسب في هذه الوضعية

التمرين الرابع



1 / احسب محيط الشكل 1

2 / احسب محيط الشكل 2

الوضعية الإدماجية : (4ن)

اشترت امرأة قطعتين من القماش طول الأولى 18.75 m وطول الثانية 16.25 m بثمن : 26 DA للمتر الواحد .

1 / احسب طول القماش الذي اشترته هذه المرأة .

2 / احسب ثمن شراء القماش .

3 / ما هو المبلغ المتبقى لها إذا علمت أنها أعطت للتاجر مبلغ 950.5 دينار .

اختبار دعم رقم (11) في اللغة العربية

النص

يوصى الخبراء بممارسة الرياضة لمدة ساعة يوميا ، لأنها تساعد على تنشيط الجسم ، وتفيد كل جزء من أجزائه بما فيها العقل ، كما أنها تساعد على النوم العميق ، وتحسن من مظهرنا العام ، وتخفف الوزن و تبقى من بعض الأمراض .

تتعدّد أنواع الرياضة ، فمنها كرة القدم و السلة ، و المضارعة و ألعاب القوى ... وهناك رياضة غير مكلفة يمكننا ممارستها في أي مكان حتى في الحديقة العامة هي الركض .

إن ممارسة رياضتك المفضلة تمنحك ، وتجعلك تداوم عليها لمدة طويلة ، لذلك (لا تُخبر نفسك على ممارسة رياضة لا تُحبها) ، لأنك لن تستمر فيها و لن تداوم عليها .

أسئلة الفهم : (3ن)

- 1- اقرأ النص قراءة جيدة ثم ضع له عنوانا مناسباً .
- 2- استخرج من النص ثلاث فوائد للرياضة .
- 3- في رأيك لماذا لا يمارس أغلبية الناس الرياضة ؟
- 4- استخرج من النص ضد كل كلمة من الكلمتين : تنفرد - رخيصة .

أسئلة اللغة : (3ن)

- 1- حول الجملة الموجودة بين قوسين في النص إلى الجمع المذكور .
- 2- اكمل الجدول :

فعل صحيح مضعف	جمع تكسير
.....

- 2- أعرب تحته خط في النص .
- 4- علل سبب كتابة الهمزة في كلمة " جزء " .

الوضعية الإدماجية : (4ن)

الرياضة مهمة للجسم و العقل ، يوصى الخبراء بممارستها بانتظام .
اكتب نصا (من 8 إلى 12 سطرا) تذكر فيه رياضتك المفضلة وفوائدها ، و تصف فيه كيفية ممارستها مستعينا ببعض عبارات النص ، و موظفا (فعل صحيح سالم + جمع مذكر سالم) .

التصحيح النموذجي لاختبار الدعم رقم (11) في الرياضيات

العلامة بالنفسيل	العلامة كاملة	حلول التمارين المقدمة												
0.05 لكل إجابة صحيحة	1.5	<p>التمرين الأول : كتابة الوحدة المناسبة :</p> <p>45.6 m = 45600 mm 45dam = 0.45 km 120 hm = 1200 dam</p>												
0.25 لكل إجابة	1.5	<p>التمرين الثاني : كتابة الأعداد بالأرقام أو بالحروف</p> <p>- خمسة وسبعون وحدة ومائتيه أعشار ← 75.8 - 0.009 ← تسعة جزء من ألف - أربعمئة وسبعة وتسعون جزء من مائة ← 4.97 - 2.15 ← وحدتان وخمسة عشر جزء من مائة - سبعة فاصل ثمانية عشر ← 7.18 - 45.256 ← خمسة وأربعون وحدة ومئتان وستة وخمسون جزء من ألف .</p>												
0.25 لكل خطوة	1.5	<p>التمرين الثالث : علم الجنول</p> <table border="1" style="margin-left: auto; margin-right: auto;"> <tr> <td>عدد الأشجار</td> <td>2</td> <td>4</td> <td>8</td> <td>12</td> <td>16</td> </tr> <tr> <td>سعة الزيت بـ L</td> <td>10</td> <td>20</td> <td>40</td> <td>60</td> <td>80</td> </tr> </table> <p>معامل التناسب . انتاج الشجرة الواحدة هو : 5 لتر</p> <p style="text-align: center;">$20 \div 4 = 5 \text{ L}$</p>	عدد الأشجار	2	4	8	12	16	سعة الزيت بـ L	10	20	40	60	80
عدد الأشجار	2	4	8	12	16									
سعة الزيت بـ L	10	20	40	60	80									
0.25 لكل إجابة	1.5	<p>التمرين الرابع :</p> <p>1/ محيط الشكل 1 هو : 16 سنتيمتر . $(5 + 3) \times 2 = 8 \times 2 = 16 \text{ cm}$</p> <p>2/ محيط الشكل 2 هو : 12 سنتيمتر . $3 \times 4 = 12 \text{ cm}$</p>												

		<u>العمليات</u>	<u>الحل</u>	<u>الأجوبة</u>
0.5 لكل عملية عمودية و 0.5 لكل عملية أفقية و 0.25 لكل عنوان إجابة صحيح	4 نقاط	$\begin{array}{r} 18.75 \\ +16.25 \\ \hline = 35.00 \end{array}$	$16.25 + 18.75 = 35 \text{ m}$	1/ طول القماش هو : 35 متر
		$\begin{array}{r} 35 \\ \times 26 \\ \hline = 210 \\ + 70. \\ \hline = 910 \end{array}$	$35 \times 26 = 910 \text{ DA}$	2/ ثمن شراء القماش هو : 910 دينار
		$\begin{array}{r} 950. \\ - 910.0 \\ \hline = 040.5 \end{array}$	$950.5 - 910 = 40.5 \text{ DA}$	3/ المبلغ المتبقي عند المرأة هو : 40.5 دينار 5

التصحيح النموذجي لاختبار الدعم (11) في اللغة العربية

العلامة مفصلة	العلامة كاملة	الأجوبة النموذجية																		
0.5 للعنوان 1.5 للجواب 0.5 للجواب الثالث 0.5 للأضداد	3 نقاط	<p>أ / أجوبة الفهم :</p> <p>1/ عنوان النص هو : فوائد الرياضة ، أهمية الرياضة ، ممارسة الرياضة 2/ فوائد الرياضة : - تنشيط الجسم - انقاص الوزن - الوقاية من بعض الأمراض . 3/ أغلبية الناس لا يمارسون الرياضة لأنهم لا يعرفون قيمتها كما أنهم لا ينظمون أوقات فراغهم لممارستها . 3/ أضداد الكلمات :</p> <table border="1"> <tr> <td>الكلمة</td> <td>ضدها</td> </tr> <tr> <td>تنفرد</td> <td>تتعدد</td> </tr> <tr> <td>رخيصة</td> <td>مكلفة</td> </tr> </table>	الكلمة	ضدها	تنفرد	تتعدد	رخيصة	مكلفة												
الكلمة	ضدها																			
تنفرد	تتعدد																			
رخيصة	مكلفة																			
0.75 للتحويل 1.25 للإعراب 0.5 للاستخراج 0.5 لتعليل الهمزة	3 نقاط	<p>ب/ أجوبة اللغة :</p> <p>1/ التحويل إلى الجمع المذكور : لا تُجبروا أنفسكم على مُمارسة رياضة لا تُحبونها . 12/ الإعراب :</p> <table border="1"> <tr> <td>الكلمة</td> <td>اعرابها</td> </tr> <tr> <td>الجسم</td> <td>مضاف إليه مجرور وعلامة جره الكسرة الظاهرة على آخره</td> </tr> <tr> <td>ممارسة</td> <td>اسم إن منصوب وعلامة نصبه الفتحة الظاهرة على آخره .</td> </tr> <tr> <td>تستمر</td> <td>فعل مضارع منصوب يُلن وعلامة نصبه الفتحة الظاهرة على آخره والفاعل ضمير مستتر تقديره أنت .</td> </tr> </table> <p>3/ الاستخراج من السند :</p> <table border="1"> <tr> <td>فعل صحيح مضعف</td> <td>جمع تكسير</td> </tr> <tr> <td>تحسّن ، تخفّض ...</td> <td>الخبراء ، أمراض ، العاة ، ...</td> </tr> </table> <p>4/ تعليل الهمزة :</p> <table border="1"> <tr> <td>الكلمة</td> <td>نوع الهمزة</td> <td>التعليل</td> </tr> <tr> <td>جزء</td> <td>متطرفة على السطر</td> <td>لأن ما قبلها ساكن .</td> </tr> </table>	الكلمة	اعرابها	الجسم	مضاف إليه مجرور وعلامة جره الكسرة الظاهرة على آخره	ممارسة	اسم إن منصوب وعلامة نصبه الفتحة الظاهرة على آخره .	تستمر	فعل مضارع منصوب يُلن وعلامة نصبه الفتحة الظاهرة على آخره والفاعل ضمير مستتر تقديره أنت .	فعل صحيح مضعف	جمع تكسير	تحسّن ، تخفّض ...	الخبراء ، أمراض ، العاة ، ...	الكلمة	نوع الهمزة	التعليل	جزء	متطرفة على السطر	لأن ما قبلها ساكن .
الكلمة	اعرابها																			
الجسم	مضاف إليه مجرور وعلامة جره الكسرة الظاهرة على آخره																			
ممارسة	اسم إن منصوب وعلامة نصبه الفتحة الظاهرة على آخره .																			
تستمر	فعل مضارع منصوب يُلن وعلامة نصبه الفتحة الظاهرة على آخره والفاعل ضمير مستتر تقديره أنت .																			
فعل صحيح مضعف	جمع تكسير																			
تحسّن ، تخفّض ...	الخبراء ، أمراض ، العاة ، ...																			
الكلمة	نوع الهمزة	التعليل																		
جزء	متطرفة على السطر	لأن ما قبلها ساكن .																		
1.5 ن للمطلوب نقطة واحدة للتوظيف و0.25 لكل خطوة من الخطوات المتبقية	4 نقاط	<p>ج/ الوضعية الامعاجية :</p> <p>- أن يكتب المتعلم فقرة من 08 إلى 12 سطرا . - أن لا يخرج عن الموضوع أو يعيد كتابة النص . - التحدث عن الرياضة المفضلة وقواندها ، ووصف كيفية ممارستها . - أن يوظف المتعلم علامات الوقف وبياض الفقرات . - أن يوظف المتعلم الشواهد (آية ، حديث ، حكمة) . - توظيف فعل صحيح سالم و جمع مذكر سالم.</p>																		

اختبار دعم رقم (12) في اللغة العربية

النص :

ما أعظم نعمة الصحة ! من جرب المرض يدرك قيمتها ، ومن زار المرضى رقى لخالهم ، وتعلمى لهم الشفاء العاجل . لعل أسباب المرض عند أولئك الذين يرقدون في المستشفيات أو في بيوتهم يتجزؤون مزاراة الأنوية ، ويكابدون الأما مغروفة . فهي العدو الذي يلوث أطعمتنا و أشربتنا، وينتشر في الهواء الذي نتنفسه من مكروبات وجزائيم . كما أن الوقاية ميسرة ، وفي متناول الجميع .

إذ لو وعى وحرص كل إنسان بصفة دائمة على نظافة يديه وثيابه ومكانه وتحرى سلامة مأكليه ومشربه ، وتجنب استنشاق الهواء الملوث قدر الإمكان ، ثم مارس قليلا من الرياضة ، لكان ذلك كافيا للاختياط ، وتغادي الكثير من المتاعب الصحية والمالية ، (فنحن إذا مسؤولون على سلامتنا) .

أ/ البناء الفكري: (3ن).

- 1- ضع عنوانا مناسباً للنص.
- 2- هات مرادف الكلمتين التاليتين : يدرك ، يرقدون.
- 3- كيف تكون الوقاية من الأمراض حسب الكاتب .

ب/ البناء اللغوي: (3ن).

- 1- اعرّب ما تحته خط في النص .
- 2- اكمل الجدول التالي بكلمات من النص :

فعل لفيف مفروق	اسم اشارة	فعل أجوف

- 3- حول العبارة التي بين قوسين في النص إلى المفرد المتكلم .
- 4- علل سبب كتابة التاء مفتوحة في كلمة : المستشفيات .

ج/ الوضعية الادماجية : (4ن)

قيل بأن الوقاية خير من العلاج .

اكتب فقرة من 08 الى 12 سطرا تبين لنا كيف تقي جسمك من الأمراض المختلفة التي تنتشر بكثرة في عصرنا هذا موظفا الصفة وجمع مذكر سالم وسطرها .

اختبار دعم رقم (12) في نشاط الرياضيات

التمرين الأول (1.5ن):

1/ ضع الرمز المناسب مكان النقطة (، أو =)

$$8,50 \dots\dots 08,5 \quad , 6,10 \dots\dots 6,12 \quad , 4315 \dots\dots 25,43$$

التمرين الثاني (1.5) :

ضع العدد المناسب في الفراغات التالية :

$$245.6 \times 10 = \dots\dots$$

$$0.004 \times 1000 = \dots\dots$$

$$7.321 \times 100 = \dots\dots$$

$$1.45 \times \dots\dots = 1450$$

$$4.56 \times \dots\dots = 45.6$$

$$1.2 \times \dots\dots = 120$$

التمرين الثالث (1.5) :

للجد مبلغ 950 قسمه على 5 من أحفاده .

احسب المبلغ الذي يأخذه الحفيد الواحد .

التمرين الرابع (1.5) :

1/ ارسم مستقيما (D) .

2/ ارسم مستقيما آخر (M) يعامده في النقطة A.

3/ عَم النقطة B على المستقيم (D) حيث تبعد عن النقطة A بـ 3cm

4/ عَم النقطة C على المستقيم (M) حيث تبعد عن النقطة A بـ 3cm

صل بين النقطتين B و C .

استخرج القطع المستقيمة الموجودة في الرسم .

الوضعية الإدماجية (4ن):

ذهبت للصيدلي فاشتريت دواء الآم الضرس بـ 320.05 دينار ودواء الآم الرأس بثمن 80.45 دينار

1/ احسب ثمن شراء الأدوية .

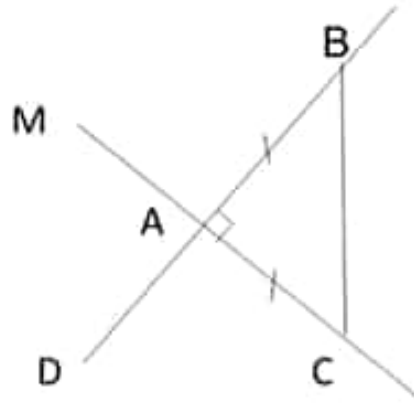
أعطيت للصيدلي مبلغ 500 دينار .

2/ ما هو المبلغ الذي سيرجعه لك .

أردت أن تشتري بالمبلغ المتبقى معجون الأسنان بثمن 150.5 دينار .

3/ هل المبلغ المتبقى يكفي لشراؤه ؟ إذا كان لا فما هو المبلغ الذي ينقصك .

التصحيح النموذجي لاختبار الدعم رقم (12) في الرياضيات

العلامة بالنقصيل	العلامة كاملة	حلول التمارين المقدمة															
0.05 لكل إجابة صحيحة	1.5	<p>التمرين الأول : مقارنة الأعداد :</p> $8,50 = 08,5 \quad , \quad 6,10 < 6,12 \quad , \quad 4315 > 25,43$															
0.25 لكل إجابة	1.5	<p>التمرين الثاني : ملء الفراغات بالأعداد المناسبة :</p> $245.6 \times 10 = 2456 \quad 0.004 \times 1000 = 4 \quad 7.321 \times 100 = 732.1$ $1.45 \times 1000 = 1450 \quad 4.56 \times 10 = 45.6 \quad 1.2 \times 100 = 120$															
0.5 لكل خطوة	1.5	<p>التمرين الثالث : التمرين الثالث :</p> <p><u>الأجوبة</u></p> <p>1/ المبلغ الذي يأخذه الحفيد الواحد هو : 190 دينار</p> $950 \div 5 = 190 \text{ DA}$ <p><u>الحل</u></p> <table style="border-collapse: collapse; margin-left: 20px;"> <tr> <td style="border-right: 1px solid black; padding: 5px;">950</td> <td style="padding: 5px;">5</td> <td style="padding: 5px;">190</td> </tr> <tr> <td style="border-right: 1px solid black; padding: 5px;">5</td> <td style="padding: 5px;"></td> <td style="padding: 5px;"></td> </tr> <tr> <td style="border-right: 1px solid black; padding: 5px;">45</td> <td style="padding: 5px;"></td> <td style="padding: 5px;"></td> </tr> <tr> <td style="border-right: 1px solid black; padding: 5px;">- 45</td> <td style="padding: 5px;"></td> <td style="padding: 5px;"></td> </tr> <tr> <td style="border-right: 1px solid black; padding: 5px;">000</td> <td style="padding: 5px;"></td> <td style="padding: 5px;"></td> </tr> </table> <p><u>العمليات</u></p>	950	5	190	5			45			- 45			000		
950	5	190															
5																	
45																	
- 45																	
000																	
0.25 لكل خطوة صحيحة	1.5	<p>التمرين الرابع :</p>  <p>القطع المستقيمة الموجودة في الشكل هي : [BC] ، [AC] ، [AB]</p>															

الوضعية الإدماجية :

		<u>العمليات</u>	<u>الاجوبة</u>
0.5 لكل عمودية عمودية و 0.5 لكل عمودية افقية و 0.25 لكل عنوان اجابة صحيح	4 نقاط	$\begin{array}{r} 320.05 \\ + 80.45 \\ \hline = 400.50 \end{array}$	1/ ثمن شراء الأدوية هو : 400.5 دينار $320.05 + 80.45 = 400.5 \text{ DA}$
		$\begin{array}{r} 500.0 \\ - 400.5 \\ \hline = 099.5 \end{array}$	2/ المبلغ الذي يرجعه الصيدلي هو : 99.5 دينار $500 - 400.5 = 99.5 \text{ DA}$
		$\begin{array}{r} 150.5 \\ - 99.5 \\ \hline = 051.0 \end{array}$	3/ المبلغ المتبقي غير كاف لشراء معجون الأسنان المبلغ الناقص هو : 51 دينار $150.5 - 98.5 = 51 \text{ DA}$

التصحيح النموذجي لاختبار الدعم (12) في اللغة العربية

العلامة مفصلة	العلامة كاملة	الأجوبة النموذجية																				
0.5 للعنوان 1.5 للجواب 0.5 الثاني للجواب 0.5 الثالث للأضداد	3 نقاط	<p>أ / اجوبة الفهم :</p> <p>1/ عنوان النص هو :نعمة الصحة ، المحافظة على الصحة 2/ مرادف الكلمات :</p> <table border="1"> <tr> <td>الكلمة</td> <td>مرادفتها</td> </tr> <tr> <td>يدرك</td> <td>يعرف</td> </tr> <tr> <td>يرقدون</td> <td>ينامون</td> </tr> </table> <p>3/ تكون الوقاية من الأمراض حسب الكاتب بالمحافظة على نظافة البدن ، واستنشاق الهواء النقي ، سلامة المأكل والمشرب ،</p>	الكلمة	مرادفتها	يدرك	يعرف	يرقدون	ينامون														
الكلمة	مرادفتها																					
يدرك	يعرف																					
يرقدون	ينامون																					
0.75 للتحويل 1.25 للإعراب 0.5 للاستخراج 0.5 لتعليل الهمزة	3 نقاط	<p>ب/ اجوبة اللغة :</p> <p>1/ الاعراب :</p> <table border="1"> <tr> <td>الكلمة</td> <td>اعرابها</td> </tr> <tr> <td>يتجرعون</td> <td>فعل مضارع مرفوع وعلامة رفعه ثبوت النون لأنه من الأفعال الخمسة وواو الجماعة ضمير متصل مبني في محل رفع فاعل</td> </tr> <tr> <td>ميسرة</td> <td>خبر مرفوع إن وعلامة رفعه الضمة الظاهرة على آخره</td> </tr> <tr> <td>الصحة</td> <td>صفة مجرورة وعلامة جرها الكسرة الظاهرة على آخرها .</td> </tr> </table> <p>2/ الاستخراج من النص :</p> <table border="1"> <tr> <td>فعل لغير مرفوع</td> <td>فعل أجوف</td> <td>اسم إشارة</td> </tr> <tr> <td>وعى</td> <td>زار ، كان</td> <td>اولئك ، ذلك</td> </tr> </table> <p>3/ التحويل الى المفرد : فأنا إذا مسؤول على سلامتي</p> <p>4/تعليل الهمزة :</p> <table border="1"> <tr> <td>الكلمة</td> <td>نوع الناء</td> <td>التعليل</td> </tr> <tr> <td>المستشفيات</td> <td>ناء مفتوحة</td> <td>لأنها جمع مؤنث سالم .</td> </tr> </table>	الكلمة	اعرابها	يتجرعون	فعل مضارع مرفوع وعلامة رفعه ثبوت النون لأنه من الأفعال الخمسة وواو الجماعة ضمير متصل مبني في محل رفع فاعل	ميسرة	خبر مرفوع إن وعلامة رفعه الضمة الظاهرة على آخره	الصحة	صفة مجرورة وعلامة جرها الكسرة الظاهرة على آخرها .	فعل لغير مرفوع	فعل أجوف	اسم إشارة	وعى	زار ، كان	اولئك ، ذلك	الكلمة	نوع الناء	التعليل	المستشفيات	ناء مفتوحة	لأنها جمع مؤنث سالم .
الكلمة	اعرابها																					
يتجرعون	فعل مضارع مرفوع وعلامة رفعه ثبوت النون لأنه من الأفعال الخمسة وواو الجماعة ضمير متصل مبني في محل رفع فاعل																					
ميسرة	خبر مرفوع إن وعلامة رفعه الضمة الظاهرة على آخره																					
الصحة	صفة مجرورة وعلامة جرها الكسرة الظاهرة على آخرها .																					
فعل لغير مرفوع	فعل أجوف	اسم إشارة																				
وعى	زار ، كان	اولئك ، ذلك																				
الكلمة	نوع الناء	التعليل																				
المستشفيات	ناء مفتوحة	لأنها جمع مؤنث سالم .																				
1.5 ن للمطلوب نقطة واحدة للتوظيف و0.25 لكل خطوة من الخطوات المتبقية	4 نقاط	<p>ج/ الوضعية الإدماجية :</p> <ul style="list-style-type: none"> - أن يكتب المتعلم فقرة من 08 إلى 12 سطرا . - أن لا يخرج عن الموضوع أو يعيد كتابة النص . - التحدث عن كيفية وقاية الجسم من الأمراض . - أن يوظف المتعلم علامات الوقف وبياض الفقرات . - أن يوظف المتعلم الشواهد (آية ، حديث ، حكمة) . - توظيف الصفة و جمع مذكر سالم. 																				

اختبار دعم رقم (13) في الرياضيات

التمرين الأول (1.5 ن):

1/ اكتب الأعداد العشرية التالية على شكل كسور عشرية :

14.700 ، 14.1 ، 14.05 ، 14.5 .

2/ رتب الكسور الناتجة لك ترتيبا تصاعديا .

التمرين الثاني (1.5) :

ضع العدد المناسب مكان النقط :

$$24.5 \div 100 = \dots\dots\dots$$

$$13.2 \div \dots\dots = 1.32$$

$$\dots\dots \div 100 = 0.006$$

التمرين الثالث (1.5) :

في مدرسة بلوة عبد العزيز يوجد 510 تلميذا بحيث ان ثلثهم ذكور .

1/ احسب عدد الذكور .

2/ احسب عدد الإناث .

التمرين الرابع (1.5) :

ارسم قطعة مستقيم [AB] طولها 6 cm .

عين النقطة O منتصف هذه القطعة المستقيمة .

ارسم المستقيم (K) عمودي على القطعة المستقيمة [AB] في النقطة A .

ارسم المستقيم (X) عمودي على القطعة المستقيمة [AO] في النقطة O .

ماذا نقول عن المستقيمين (K) و (X) .

الوضعية الإدماجية (4 ن):

لفلاح أرض مستطيلة الشكل طولها 600 متر وعرضها يساوي خمس $\frac{1}{5}$ طولها .

1/ احسب عرض هذه الأرض .

أرد الفلاح إحاطة هذه الأرض بسياج لحماية المزروعات .

2/ ما هو طول السياج اللازم لإحاطتها ؟

غرس الفلاح هذه الأرض بطاطا فإنتجت له 6500 كيلو غرام من البطاطا فباعها بثمان 27 دينار

للكيلو غرام الواحد .

3/ احسب ثمن بيع البطاطا .

اختبار دعم رقم (13) في نشاط اللغة العربية

النص :

الغذاء هو أساس حصول الجسم على الطاقة، وهو بمثابة الوقود الذي يُستخدَم لإنتاج ما تحتاجه الخلايا لإتمام العنليات الحيوية، وأهميته الغذاء لجسم الإنسان ليست أهميته مادية فقط، وإنما أهميته معنوية فهو يُعطي الإنسان دافعا ليقوم بذوره في هذه الحياة على أكمل وجه .

و قد حرم الله تعالى تناول الكثير من الأغذية التي تُسبب للإنسان الضرر، ومن أبرزها المشروبات الكحولية، والميتة، والدم، ولحم الخنزير، فكلها تُعطي نتائج سلبية عند تناولها، لهذا فإن تناول الغذاء ليس شيئا عشوائيا، بل هو أسلوب حياة يُرشدنا إلى الطريقة الصحيحة التي يجب أن نتبعها لنصون أجسامنا من الأمراض وكى تبقى قوية ومُتفحّة كالزهور، فالحكماء قالوا قديما "أنت و ما تأكله" أي أن ما نتناوله يظهر أثره عليك، (فحاول الحصول على القدر الكافي من الغذاء الذي يحميك و يفيد جسمك) و كما قالوا : " أن الغذاء فيه الداء وفيه الدواء"، فالحمد لله الذي أنعم علينا بالكثير من النعم التي لا تُعد ولا تُحصى .

أ/ البناء الفكري:(3ن).

- 1- ضع عنوانا مناسباً للنص.
- 2- اذكر الأغذية التي حرمها الله تعالى والمذكورة في النص ؟
- 3- ما هو مرادف الكلمات التالية : نصون ، الداء .
- 4- قالوا قديما : الغذاء فيه الداء وفيه الدواء ، قدم حكمة أخرى تعرفها عن الغذاء أو الصحة .

ب/ البناء اللغوي:(3ن).

- 1- اعرب ما تحته خط في النص .
- 2- اكمل الجدول التالي بكلمات من النص :

جمع تكسير	فعل أجوف

- 3- حول العبارة التي بين قوسين في النص إلى الجمع .
- 4- ماهي علامة التأنيث في الكلمة التالية : الميتة .

ج/ الوضعية الإدماجية : (4ن)

لديك صديق غير منتظم في غذائه اليومي حتى أصيب بالسمنة .

اكتب فقرة من 08 الى 12 سطرا تقدم له مجموعة من النصائح للتخلص من السمنة وكيف ينظم برنامجها الغذائي للمحافظة على رشاقة جسمه موظفا أدوات التوكيد وفعل ناقص .

التصحيح النموذجي لاختبار الدعم رقم (13) اللغة العربية

العلامة مفصلة	العلامة كاملة	<u>الأجوبة النموذجية</u>																
0.5 لكل إجابة صحيحة	3 نقاط	<p><u>أ / أجوبة البناء الفكري :</u></p> <p>1 / عنوان النص هو : أهمية الغذاء ، التغذية الصحية ، دور الغذاء .</p> <p>2 / الأغذية التي حرمها الله تعالى والمذكورة في النص : المشروبات الكحولية ، والميتة ، والدم ، ولحم الخنزير .</p> <p>3 / مرادف الكلمات :</p> <table border="1"> <tr> <td>الكلمة</td> <td>مرادفها</td> </tr> <tr> <td>يصون</td> <td>يحمي</td> </tr> <tr> <td>الداء</td> <td>المرض</td> </tr> </table> <p>4 / حكم حول الصحة والتغذية : الصحة أن تأكل ما لا تشتهي وتشرب ما لا تحب ، الصحة تاج على رؤوس الأصحاء لا يعرفه إلا المرضى</p>	الكلمة	مرادفها	يصون	يحمي	الداء	المرض										
الكلمة	مرادفها																	
يصون	يحمي																	
الداء	المرض																	
0.5 لكل اعراب صحيح	3 نقاط	<p><u>ب/ أجوبة البناء اللغوي :</u></p> <p><u>1 / الاعراب</u></p> <table border="1"> <tr> <td>الكلمة</td> <td>اعرابها</td> </tr> <tr> <td>الغذاء</td> <td>مبتدأ مرفوع وعلامة رفعه الضمة الظاهرة على آخره</td> </tr> <tr> <td>العمليات</td> <td>مضاف إليه مجرور وعلامة جره الكسرة الظاهرة على آخره .</td> </tr> <tr> <td>تبقى</td> <td>فعل مضارع منصوب بكي وعلامة نصبه الفتحة المقدرة على الألف المقصورة للتعذر ، والفاعل ضمير مستتر تقديره هي .</td> </tr> </table> <p><u>2 / الاستخراج من النص :</u></p> <table border="1"> <tr> <td>جمع تكسير</td> <td>فعل أجوف</td> </tr> <tr> <td>الخلايا ، الأنشطة ، عباده ، الأمراض ، الأغذية ، أجسامنا ، الزهور ، الحكماء ، النعم</td> <td>قالوا ، يقوم</td> </tr> </table> <p>3 / التحويل إلى المفرد المتكلم : فحاولوا الحصول على القدر الكافي من الغذاء الذي يحميكم و يفيد جسمكم</p> <p>4 / علامة التانيث</p> <table border="1"> <tr> <td>الكلمة</td> <td>علامة التانيث</td> </tr> <tr> <td>الميتة</td> <td>الناء المتحركة</td> </tr> </table>	الكلمة	اعرابها	الغذاء	مبتدأ مرفوع وعلامة رفعه الضمة الظاهرة على آخره	العمليات	مضاف إليه مجرور وعلامة جره الكسرة الظاهرة على آخره .	تبقى	فعل مضارع منصوب بكي وعلامة نصبه الفتحة المقدرة على الألف المقصورة للتعذر ، والفاعل ضمير مستتر تقديره هي .	جمع تكسير	فعل أجوف	الخلايا ، الأنشطة ، عباده ، الأمراض ، الأغذية ، أجسامنا ، الزهور ، الحكماء ، النعم	قالوا ، يقوم	الكلمة	علامة التانيث	الميتة	الناء المتحركة
الكلمة		اعرابها																
الغذاء		مبتدأ مرفوع وعلامة رفعه الضمة الظاهرة على آخره																
العمليات		مضاف إليه مجرور وعلامة جره الكسرة الظاهرة على آخره .																
تبقى	فعل مضارع منصوب بكي وعلامة نصبه الفتحة المقدرة على الألف المقصورة للتعذر ، والفاعل ضمير مستتر تقديره هي .																	
جمع تكسير	فعل أجوف																	
الخلايا ، الأنشطة ، عباده ، الأمراض ، الأغذية ، أجسامنا ، الزهور ، الحكماء ، النعم	قالوا ، يقوم																	
الكلمة	علامة التانيث																	
الميتة	الناء المتحركة																	
0.25 لكل استخراج صحيح																		
0.25 لكل تحويل كلمة صحيحة																		
0.25 للتعليل																		
نقطة واحدة للتوظيف لكل خطوة من الخطوات المنطقية	4 نقاط	<p><u>ج/ الوضعية الانعاجية :</u></p> <p>- أن يكتب المتعلم فقرة من 08 إلى 12 سطرا .</p> <p>- أن تكون الأفكار مترابطة .</p> <p>- اقتناع الصديق بتقديم نصائح للتخلص من السمعة .</p> <p>- تبيان أهمية احترام البرنامج غذائي يومي</p> <p>- أن يوظف المتعلم علامات الوقف وبياض الفقرات (مقدمة ، عرض ، خاتمة)</p> <p>- أن يوظف المتعلم الشواهد (آية ، حديث ، حكمة) .</p> <p>- توظيف أدوات التوكيد وفعل ناقص .</p>																

التصحيح النموذجي لاختبار الدعم رقم (13) في الرياضيات

العلامة بال تفصيل	العلامة كاملة	حلول التمارين المقدمة
0.25 لكل خطوة صححة	1.5	<p>التمرين الأول :</p> <p>1/ كتابة الأعداد العشرية على شكل كسور عشرية :</p> $14.5 = \frac{145}{10} \quad 14.05 = \frac{1405}{100} \quad 14.1 = \frac{141}{10} \quad 14.700 = \frac{14700}{1000}$ <p>2/ ترتيب الكسور تصاعديا</p> $\rightarrow \frac{1405}{100} < \frac{141}{10} < \frac{145}{10} < \frac{14700}{1000}$
0.5 لكل إجابة صححة	1.5	<p>التمرين الثاني :</p> <p>وضع العدد المناسب مكان النقط :</p> $24.5 + 100 = 0.245 \quad 13.2 + 10 = 1.32 \quad 0.6 + 100 = 0.006$
0.5 لكل خطوة	1.5	<p>التمرين الثالث :</p> <p>1/ عدد الذكور هو : 170 تلميذ</p> <p>2/ عدد البنات هو : 340 تلميذة</p>
0.5 لكل خطوة	1.5	<p>الاجوبة</p> <p>الحل</p> <p>العمليات</p> $\begin{array}{r} 510 \\ -3 \\ \hline -21 \\ -21 \\ \hline 000 \end{array}$ $510 \div 3 = 170$
1.25 للرسم 0.5 للإجابة عن السؤال .	1.5	<p>التمرين الرابع</p> <p>المستقيمان (K) و (X) متوازيان</p>

الوضعية الإدماجية :

0.5 لكل
عملية
عمودية
و 0.5
لكل
عملية
أفقية
و 0.25
لكل
عنوان
إجابة
صحيح
0.25
للتنظيم

4
نقاط

العمليات

الحل

الأجوبة

1/ عرض الأرض هو : 120 متر

$$600 \div 5 = 120 \text{ m}$$

$$\begin{array}{r|l} 600 & 5 \\ - 5 & 120 \\ \hline 10 & \\ 10 & \\ \hline 000 & \end{array}$$

2/ طول السياج هو : 1440 متر

$$(600 + 120) \times 2 = 1440 \text{ m}$$

$$\begin{array}{r} 600 \\ + 120 \\ \hline = 720 \\ 720 \\ \times 2 \\ \hline = 1440 \end{array}$$

3/ ثمن بيع البطاطا هو : 175500 دينار

$$6500 \times 27 = 175500 \text{ DA}$$

$$\begin{array}{r} 6500 \\ \times 27 \\ \hline 45500 \\ + 130000 \\ \hline = 175500 \end{array}$$

المستوى : الخامسة
المدة: 1ساو30د

مقاطعة العبادية (01)
مدرسة بلوة عبد العزيز

اختبار دعم رقم (14) في الرياضيات

التعريف الأول: (1.5 نقطة)

رتب الأعداد التالية ترتيبا تصاعديا باستعمال الرمز المناسب :

17 - 0.7 - 13.5 - 71 - 1.35 .

التعريف الثاني: (1.5 نقطة)

احصر الأعداد العشرية التالية بين عددين طبيعيين متتاليين :

..... < 5.021 < | < 145.8 < | < 15.03 <
..... < 0.456 < | < 568.52 < | < 65.87 <

التعريف الثالث: (1.5 نقطة)

بمناسبة عيد المعلم اشترك 7 تلاميذ في شراء هدية لمعلمهم ثمنها 1050 دينار .
ما هو المبلغ الذي ساهم به كل تلميذ .

التعريف الرابع: (1.5 نقطة)

- ارسم المستقيم (K) عمودي على المستقيم (T) في النقطة O .
- عين النقطة A على المستقيم (K) .
 - عين النقطة B على المستقيم (T) .
 - اربط بين النقطتين A و B .
 - ما نوع المثلث AOB ؟

المسألة (4 نقاط)

- نجح أخوك في شهادة البكالوريا أعطاه الأب مبلغ 9500 دينار فاشترى هاتفًا نقالا ثمنه 5674 دينار
وشريحة ثمنها 450 دينار
- 1/ ما هو ثمن المشتريات ؟
 - 2/ ما هو المبلغ الذي يبقى عنده ؟
 - 3/ إذا علمت أن أخاك تكلم مع أصدقائه مدة 47 دقيقة وسعر الدقيقة الواحدة 8.5 دينار
احسب ثمن المكالمات .

اختبار دعم رقم (14) في اللغة العربية

كيف ننفق وقتنا

النص :

عَرَفَ النَّاسُ مِنْ ذَوِي الْيَقَظَةِ وَالنَّبَاهَةِ وَالْفِطْنَةِ فِي بُلْدَانٍ مَتَّحَصِرَةٍ اسْتِغْلَالَ الْوَقْتِ، فَقَدْ كَانُوا يُقْضُونَ سَاعَاتِ الْفَرَاغِ فِي تَعْلُمِ الصَّنَائِعِ، وَيَطْوِرُونَ الْهَيَاةَ الْجَمِيلَةَ، كَالرُّسْمِ وَالزُّخْرَفَةِ وَالْمُوسِيقَى وَالنَّخْتِ .. فَتَجَحَّوْا فِي ذَلِكَ نَجَاحًا بَاهِرًا، وَتَفَعَّلُوا أَنْفُسَهُمْ وَأَوْطَانَهُمْ ، وَاسْتَهْزَوْا بِتِلْكَ الصَّنَائِعِ أَكْثَرَ مِمَّا اسْتَهْزَوْا بِمِهْنَتِهِمْ وَأَعْمَالِهِمِ الرَّسْمِيَّةِ .

فَالْقَضِيَّةُ قَضِيَّةُ إِزَادَةِ عَزْمٍ وَحَزْمٍ وَمُواظَبَةٍ، أَمَّا الَّذِينَ يُنْفِقُونَ أَوْقَاتَ فَرَاحِهِمْ فِي اللَّهْوِ وَالْمَرْحِ وَاللَّعِبِ وَالْحَدِيثِ الْفَارِغِ فَهَوْلَاءُ أَفْئِدَةُ الْمُجْتَمَعِ، وَشَرٌّ عَلَى مَنْ نَجَّالِسُهُمْ وَيُصَانِجُهُمْ .

ليس الفقير من لا يملك مالا، (وإنما الفقير هو الكسول الذي لا يستغل صحته وفراغه) .

ذلك هو الفقير المغبون كما قال رسول الله صلى الله عليه وسلم: " بَعْمَتَانِ مَغْبُونٌ فِيهِمَا كَثِيرٌ مِنَ النَّاسِ، الصِّحَّةُ وَالْفَرَاغُ " .

أسئلة الفهم : (3ن)

1 / من هو الفقير في رأي الكاتب ؟ .

2 / هات أضداد الكلمات التالية : اليقظة ، نفعوا ، الفقير .

3 / بين لنا كيف تنظم أوقات فراغك .

أسئلة اللغة : (3ن)

1 / استخرج من النص : فعلا ناقصا .

2 / حول ما بين قوسين في النص الى الجمع .

3 / اعرب ما تحته خط في النص .

4 / علل سبب كتابة الهمزة في كلمة : الصنائع .

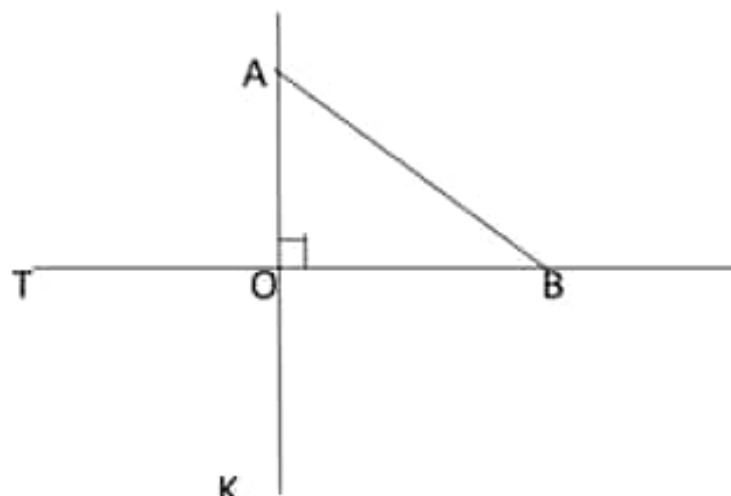
الوضعية الإدماجية : (4ن)

الانسان العاقل هو الذي ينظم وقته في ما يعود عليه بالنفع والفائدة ، والهوايات من المجالات التي

تساعده على ذلك . اكتب فقرة من 10 أسطر تتحدث فيها عن الهواية التي تفضلها ، وكيف تنفق أوقات

فراغك فيها موظفا فعل مثال ومضاف إليه واطرهما .

التصحيح النموذجي لاختبار الدعم رقم (14) في الرياضيات

العلامة بالفصيل	العلامة كاملة	حلول التمارين المقدمة
0.25 لكل خطوة صحيحة	1.5	التمرين الأول : ترتيب الأعداد تصاعديا : $0.7 < 1.35 < 13.5 < 17 < 71$.
0.25 لكل إجابة صحيحة	1.5	التمرين الثاني : احصر الأعداد العشرية التالية بين عددين طبيعيين متتاليين : $15 < 15.03 < 16$ $145 < 145.8 < 146$ $5 < 5.021 < 6$ $65 < 65.87 < 66$ $568 < 568.52 < 569$ $0 < 0.456 < 1$
0.5 لكل خطوة	1.5	التمرين الثالث : <u>الأجوبة</u> 1 / المبلغ الذي ساهم به كل تلميذ هو : 150 دينار $1050 \div 7 = 150 \text{ DA}$ <u>الحل</u> $\begin{array}{r} 1050 \quad 7 \\ - 7 \quad \quad 150 \\ \hline 035 \\ - 35 \\ \hline 000 \end{array}$
1.25 لرسم 0.25 للإجابة عن السؤال .	1.5	التمرين الرابع  المثلث AOB مثلث قائم في النقطة O

الوضعية الإدماجية :

		<u>العمليات</u>	<u>الحل</u>	<u>الأجوبة</u>
0.5 لكل عملية عمودية و 0.5 لكل عملية افقية و 0.25 لكل عنوان إجابة صحيح 0.25 للتنظيم	4 نقاط	$\begin{array}{r} 5674 \\ + 450 \\ \hline = 6124 \end{array}$	$5674 + 450 = 6124 \text{ DA}$	1/ ثمن المشتريات هو : 6124 دينار
		$\begin{array}{r} 9500 \\ - 6420 \\ \hline = 3376 \end{array}$	$9500 - 6420 = 3376 \text{ DA}$	2/ المبلغ المتبقي هو :
		$\begin{array}{r} 8.5 \\ \times 47 \\ \hline 595 \\ + 340. \\ \hline = 399.5 \end{array}$	$8.5 \times 47 = 399.5 \text{ DA}$	3/ ثمن المكالمات هو : 399.5 دينار

التصحيح النموذجي لاختبار الدعم رقم (14) اللغة العربية

العلامة مفصلة	العلامة كاملة	الأجوبة النموذجية														
0.5 للجواب الأول 1.5 للجواب الثاني 1 للجواب الثالث	3 نقاط	<p><u>أ / أجوبة البناء الفكري :</u></p> <p>1/ <u>الفَقِيرُ هُوَ الكَسُولُ الَّذِي لَا يَسْتَعْمِلُ صِحَّتَهُ وَفِرَاعَهُ .</u></p> <p>2/ <u>أضداد الكلمات :</u></p> <table border="1"> <tr> <td>الكلمة</td> <td>ضدها</td> </tr> <tr> <td>البقطة</td> <td>العفلة</td> </tr> <tr> <td>نفعوا</td> <td>ضروا</td> </tr> <tr> <td>الفقير</td> <td>الغني</td> </tr> </table> <p>3/ <u>أنظم أوقات فراغي بوضع توقيت أقسم فيه الوقت فأخصص جزء لممارسة الرياضة وممارسة هوايتي المفضلة وجزء لتلاوة القرآن وحفظه وجزء للترفيه واللعب ومشاهدة التلفاز وجزء للدراسة .</u></p>	الكلمة	ضدها	البقطة	العفلة	نفعوا	ضروا	الفقير	الغني						
الكلمة	ضدها															
البقطة	العفلة															
نفعوا	ضروا															
الفقير	الغني															
1.25 للإعراب 0.25 للاستخراج 1.25 للتحويل 0.25 للتعليل	3 نقاط	<p><u>ب/ أجوبة البناء اللغوي :</u></p> <p>1/ <u>استخراج فعل ناقص : يقضون ، صلى .</u></p> <p>2/ <u>التحويل إلى الجمع :</u></p> <p>وإنما الفقراء هم الكسالى الذين لا يستعملون صحتهم وفراعهم</p> <p>3/ <u>الإعراب</u></p> <table border="1"> <tr> <td>الكلمة</td> <td>إعرابها</td> </tr> <tr> <td>الهوايات</td> <td>مفعول به منصوب وعلامة نصبه الكسرة نيابة عن الفتحة لأنه جمع مؤنث سالم .</td> </tr> <tr> <td>نفعوا</td> <td>فعل ماضٍ مبني على الضم لاتصاله بواو الجماعة ، وواو الجماعة ضمير متصل مبني في محل رفع فاعل .</td> </tr> <tr> <td>الفقير</td> <td>اسم مرفوع وعلامة رفعه الضمة الظاهرة على آخره .</td> </tr> </table> <p>4/ <u>تعليل الهمزة</u></p> <table border="1"> <tr> <td>الكلمة</td> <td>نوع الهمزة</td> <td>التعليل</td> </tr> <tr> <td>الصنابع</td> <td>متوسطة على النبرة</td> <td>لأنها مكسورة</td> </tr> </table>	الكلمة	إعرابها	الهوايات	مفعول به منصوب وعلامة نصبه الكسرة نيابة عن الفتحة لأنه جمع مؤنث سالم .	نفعوا	فعل ماضٍ مبني على الضم لاتصاله بواو الجماعة ، وواو الجماعة ضمير متصل مبني في محل رفع فاعل .	الفقير	اسم مرفوع وعلامة رفعه الضمة الظاهرة على آخره .	الكلمة	نوع الهمزة	التعليل	الصنابع	متوسطة على النبرة	لأنها مكسورة
الكلمة	إعرابها															
الهوايات	مفعول به منصوب وعلامة نصبه الكسرة نيابة عن الفتحة لأنه جمع مؤنث سالم .															
نفعوا	فعل ماضٍ مبني على الضم لاتصاله بواو الجماعة ، وواو الجماعة ضمير متصل مبني في محل رفع فاعل .															
الفقير	اسم مرفوع وعلامة رفعه الضمة الظاهرة على آخره .															
الكلمة	نوع الهمزة	التعليل														
الصنابع	متوسطة على النبرة	لأنها مكسورة														
نقطة واحدة للتوظيف 0.5 لكل خطوة من الخطوات المتبقية	4 نقاط	<p><u>ج/ الوضعية الإنعاجية :</u></p> <p>- أن يكتب المتعلم فقرة من 10 أسطر .</p> <p>- أن تكون الأفكار مترابطة .</p> <p>- التحدث عن الهواية المفضلة، وكيفية انفاق أوقات الفراغ فيها</p> <p>- أن يوظف المتعلم علامات الوقف وبياض الفقرات (مقدمة ، عرض ، خاتمة)</p> <p>- أن يوظف المتعلم الشواهد (آية ، حديث ، حكمة) .</p> <p>- توظيف فعل مثال ومضاف إليه .</p>														

تمارين حول دروس الأعداد العشرية

التمرين (01) :

اكتب الأعداد التالية بالأرقام أو بالحروف :

- خمسة وثلاثون وحدة وثمانى اعشار :

- 145,12 :

- 77,5 :

- 7,364 :

التمرين (02) :

حدد مرتبة الرقم 5 في كل عدد من الأعداد التالية :

العدد	مرتبة الرقم 5	العدد	مرتبة الرقم 5
145.026	22.056
36.125	9.685
5694.9	541.21
157.29	859.2

التمرين (03) :

فكك الأعداد العشرية التالية إلى جزء صحيح وجزء عشري :

$$45.23 = \dots + \dots$$

$$1753.8 = \dots + \dots$$

$$6.214 = \dots + \dots$$

$$0.236 = \dots + \dots$$

$$7896.12 = \dots + \dots$$

$$496.78 = \dots + \dots$$

التمرين (04) :

فكك الأعداد التالية حسب المراتب :

$$145.402 = \dots$$

$$13.7 = \dots + 2008.005 = \dots$$

$$980.024 = \dots + 52.2 = \dots$$

التمرين (05) :

اكتب الأعداد العشرية التالية على شكل كسور عشرية ثم رتب الكسور الناتجة لك ترتيبا تنازليا :

$$12.6 = \dots + 896.2 = \dots + 7.236 = \dots + 14.87 = \dots + 5.007 = \dots$$

→

التمرين (06) :

قارن باستخدام الرمز المناسب :

$$22.07 \dots\dots 22.7$$

$$17.020 \dots\dots 17.02$$

$$78 \dots\dots 22.41$$

$$\frac{25}{10} \dots\dots 5.63$$

$$77.6 \dots\dots \frac{7760}{100}$$

$$35.47 \dots\dots \frac{6}{1000}$$

$$\frac{12}{10} \dots\dots \frac{33}{100}$$

$$\frac{877}{100} \dots\dots \frac{16}{1000}$$

$$\frac{886}{10} \dots\dots \frac{8860}{100}$$

التمرين (07) :

احصر الأعداد العشرية التالية بين عددين طبيعيين متتاليين :

$$\begin{array}{|l} \dots\dots < 18.03 < \dots\dots \\ \dots\dots < 53.87 < \dots\dots \end{array} \quad \begin{array}{|l} \dots\dots < 165.8 < \dots\dots \\ \dots\dots < 700.52 < \dots\dots \end{array} \quad \begin{array}{|l} \dots\dots < 4.056 < \dots\dots \\ \dots\dots < 0.46 < \dots\dots \end{array}$$

التمرين (08) :

احصر الأعداد العشرية التالية بين عددين عشريين لذيهما رقم واحد في الجزء العشري :

$$\begin{array}{|l} \dots\dots < 11.5 < \dots\dots \\ \dots\dots < 7.2 < \dots\dots \end{array} \quad \begin{array}{|l} \dots\dots < 87.85 < \dots\dots \\ \dots\dots < 64.52 < \dots\dots \end{array} \quad \begin{array}{|l} \dots\dots < 13.453 < \dots\dots \\ \dots\dots < 7.852 < \dots\dots \end{array}$$

التمرين (09) :

احصر الأعداد العشرية التالية بين عددين عشريين لذيهما رقمان في الجزء العشري :

$$\begin{array}{|l} \dots\dots < 15.7 < \dots\dots \\ \dots\dots < 3.5 < \dots\dots \end{array} \quad \begin{array}{|l} \dots\dots < 26.14 < \dots\dots \\ \dots\dots < 69.82 < \dots\dots \end{array} \quad \begin{array}{|l} \dots\dots < 39.226 < \dots\dots \\ \dots\dots < 8.367 < \dots\dots \end{array}$$

التمرين (10) :

اكتب العدد الطبيعي الأقرب للأعداد العشرية التالية :

$$\begin{array}{l} \dots\dots : 66.57 \text{ ، } \dots\dots : 123.8 \text{ ، } \dots\dots : 45.123 \\ \dots\dots : 27.81 \text{ ، } \dots\dots : 453.456 \text{ ، } \dots\dots : 87.3 \\ \dots\dots : 62.905 \text{ ، } \dots\dots : 0.896 \text{ ، } \dots\dots : 3.226 \end{array}$$

التمرين (11) :

اكتب الكسور التالية على شكل أعداد عشرية :

$$\begin{array}{l} \frac{5}{2} = \dots\dots \text{ ، } \frac{9}{25} = \dots\dots \\ \frac{15}{15} = \dots\dots \text{ ، } \frac{15}{50} = \dots\dots \\ \frac{5}{8} = \dots\dots \text{ ، } \frac{10}{4} = \dots\dots \\ \frac{20}{20} = \dots\dots \end{array}$$

التمرين (12) :

رتب الأعداد العشرية التالية ترتيبا تصاعديا :

$$22.31 \text{ ، } 120.8 \text{ ، } 45.89 \text{ ، } 56 \text{ ، } 7.265 \text{ ، } 453.7 \text{ ، } 12.6$$

.....

اختبار دعم رقم (15) في الرياضيات

التمرين الأول (1.5ن):

حول إلى الوحدة المناسبة أو اكتب الوحدة المناسبة في الفراغات التالية :

$$25 \text{ a} = \dots\dots\dots \text{m}^2$$

$$2.63 \text{ dam}^2 = \dots\dots\dots \text{ca}$$

$$52.14 \text{ m}^2 = \dots\dots\dots \text{cm}^2$$

$$125.6 \text{ ha} = 1.256\dots\dots$$

$$22 \text{ cm}^2 = 2200 \dots\dots$$

$$33.5 \text{ m}^2 = 0.335 \dots\dots$$

التمرين الثاني: (1.5 ن)

اليك العدد العشري التالي :

. 75.03

1/ ماهي مرتبة الرقم 7 في هذا العدد ؟

2/ اكتبه على شكل كسر عشري

3/ فكك هذا العدد .

4/ احصره بين عددي طبيعيين متتاليين .

التمرين الثالث : (1.5 ن)

تمارس دعاء رياضة نط الحبل فنقوم بـ 260 لفة في 4 دقائق .

احسب عدد اللفات التي تقوم بها في 8 دقائق .

التمرين الرابع : (1.5 ن)

باستخدام المشور:

1/ ارسم مثلثاً متساوي الساقين ABC طول قاعدته 3cm وطول الضلعين المتقايسين هو 5 cm .

2/ ارسم مثلثاً متقايس الأضلاع XWT طول ضلعه 4 cm .

الوضعية الإدماجية : (4 ن)

اشترى شخص قطعة أرض طولها 135.42 m وعرضها هو 56 m .

- 1/ احسب مساحة هذه الأرض

ثم قرر أن يحيطها بسياج فاشترى المعدات التالية: أعمدة بـ 165000 da وثلاثة أبواب بـ 1290.45da

ولفات سلك بـ 45500 da .

- 2/ احسب ثمن معدات التسييج .

شغل صاحب الأرض 5 عمال لتسييج الأرض فأعطاهم مبلغ قدره 15000 da

- 3/ احسب المبلغ الذي يأخذه كل عامل .

اختبار دعم رقم (15) في اللغة العربية

النص :

مَلَّ أمينٌ من كثرةِ تضييعِ الوقتِ مع الأصدقاءِ يوميًا في اللعبِ و اللهُو الذي لا فائدةَ منه ، فعوَّذ نفسه على الإنصرافِ إلى منزله عند كلِّ غروبِ شمسٍ ، شعرَ أصدقاؤهَ بالإنصرافِ المُبكرِ فسألوه : لماذا تُفارقنا باكراً يا أمينُ ؟ فأجاب : إنني في رحلةٍ ، فبأنزلةٍ أحمَدُ قانلاً : رحلةٌ ؟! أيُّ رحلةٍ تقصِّدُ يا هذا ، إننا نراك نينتنا ، و في مجلسنا يوميًا ، قال أمينٌ : تعالوا يا أصدقاءِ أنبئكم برحلتِي . انفقوا حوله ، و أخذَ يخبي لهم عن رحلتهِ ، ولم ينثه منها إلا في موعدِ العشاءِ ، و حينئذِ نطقَ أحمَدُ : حقا إنَّها رحلةٌ ممتعةٌ ، هل لك أن تُعيدها علينا ثانيةً ؟ قال أمينٌ باستطاعتكم أن تستعيدوا قراءتها إن أردتم يا أصدقائي فما عليكم إلا أن تفتنوا الكتاب الذي تضمَّنْها .

أسئلة البناء الفكري : (3ن)

- 1- هل كان أمين في رحلة حقا ؟
- 2- بم أشار أمين على أصحابه عندما طلبوا منه أن يعيد عليهم رحلته مرة أخرى .
- 3- هات مرادف الكلمة التالية من النص : أخبركم .
- 4- وظف صيغة لذلك باستعمال كلمة الوقت .

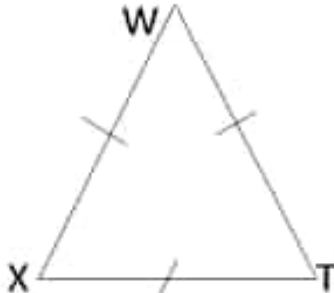
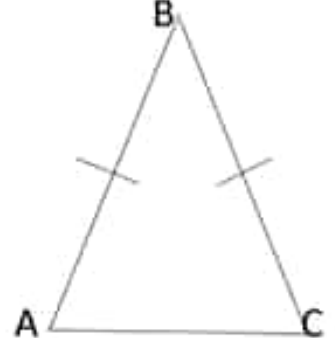
أسئلة البناء اللغوي : (3ن)

- 1- أعرب ما تحته خط في النص .
- 2- خاطب المفردة المؤنثة بالعبارة الآتية: " باستطاعتكم أن تستعيدوا قراءتها إن أردتم يا أصدقائي فما عليكم إلا أن تفتنوا الكتاب الذي تضمَّنْها " .
- 3- علل سبب كتابة الهمزة في كلمة : قراءتها .

الوضعية الإدماجية : (4ن)

الوقت ثمين يجب أن نستغله في ما يعود علينا بالفائدة .
اكتب فقرة من 08 الى 12 سطرا كيف تنظم وتستغل وقتك فيما يعود عليك بالنفع و الفائدة موظفا فعل صحيح سالم و جمع تكسير مسطرا تحتها .

التصحيح النموذجي لاختبار الدعم رقم (15) في الرياضيات

العلامة بالفصيل	العلامة كاملة	حلول التمارين المقدمة
0.25 لكل إجابة صحيحة	1.5	<p>التمرين الأول : التحويل إلى الوحدة المناسبة أو كتابة الوحدة المناسبة في الفراغات التالية :</p> $25 \text{ a} = 2500 \text{ m}^2$ $52.14 \text{ m}^2 = 521400 \text{ cm}^2$ $22 \text{ cm}^2 = 2200 \text{ mm}^2$ $2.63 \text{ dam}^2 = 263 \text{ ca}$ $125.6 \text{ ha} = 1.256 \text{ km}^2$ $33.5 \text{ m}^2 = 0.335 \text{ dam}^2$
0.5 للإجابة الأولى والثانية و 1 للإجابة الثالثة والرابعة	1.5	<p>التمرين الثاني :</p> <p>1/ مرتبة الرقم 7 في العدد 75.03 هي عشرات .</p> <p>2/ كتابة العدد على شكل كسر عشري $\frac{7503}{100}$</p> <p>3/ تفكيك العدد : $75.03 = 70 + 5 + 0.03$</p> <p>4/ حصره بين عددي طبيعيين متتاليين $75 < 75.03 < 76$</p>
0.5 لكل خطوة	1.5	<p>التمرين الثالث :</p> <p>1/ عدد اللغات التي تقوم بها في 8 دقائق : 520 لغة</p> $260 \times 2 = 520$ <p>يمكن حل الوضعية باستخدام الطريقة الثلاثية وطريقة معامل التناسب</p>
0.75 لكل رسم صحيح	1.5	<p>التمرين الرابع</p> <div style="display: flex; justify-content: space-around; align-items: center;"> <div style="text-align: center;">  </div> <div style="text-align: center;">  </div> </div>

الوضعية الإدماجية :

		<u>العمليات</u>	<u>الحل</u>	<u>الأجوبة</u>
0.5 لكل عملية عمودية و 0.5 لكل عملية افقية و 0.25 لكل عنوان إجابة صحيح 0.25 للتنظيم	4 نقاط	$\begin{array}{r} 135.42 \\ \times 56 \\ \hline = 81252 \\ 67710. \\ \hline = 7583.52 \end{array}$	<p>1/ مساحة الأرض هي : 7583.52 متر مربع</p> $135.42 \times 56 = 7583.52 \text{ m}^2$	
		$\begin{array}{r} 165000 \\ + 45500 \\ + 1290.45 \\ \hline = 211790.45 \end{array}$	<p>2/ ثمن معدات التسييج : 211790.45 دينار</p> $165000 + 45500 + 1290.45 = 211790.45 \text{ DA}$	
		$\begin{array}{r l} 15000 & 5 \\ 15 & 3000 \\ \hline 00000 & \end{array}$	<p>3/ أجره العامل الواحد هي : 3000 دينار</p> $15000 \div 5 = 3000 \text{ DA}$	

التصحيح النموذجي لاختبار الدعم رقم (15) اللغة العربية

العلامة مفصلة	العلامة كاملة	<u>الأجوبة النموذجية</u>														
1 للجواب الأول 1 للجواب الثاني 0.5 للجواب الثالث 0.5 للجواب الرابع	3 نقاط	<p><u>أ / أجوبة البناء الفكري :</u></p> <p>1 / لم يكن أمين في رحلة بل كان يطالع كتابا . 2 / أشار أمين لأصدقائه باقتناء الكتاب ومطالعة القصة 3 / <u>مرادف الكلمة :</u></p> <table border="1"> <tr> <td>الكلمة</td> <td>مرادفها</td> </tr> <tr> <td>أخبركم</td> <td>أنبئكم</td> </tr> </table> <p>4 / توظيف صيغة لذلك : الوقت ثمين لذلك يجب استغلاله فيما يعود علينا بالنفع</p>	الكلمة	مرادفها	أخبركم	أنبئكم										
الكلمة	مرادفها															
أخبركم	أنبئكم															
1.25 للإعراب 1.25 للتحويل 0.5 للتعليل	3 نقاط	<p><u>ب/ أجوبة البناء اللغوي :</u></p> <p><u>1 / الاعراب</u></p> <table border="1"> <tr> <td>الكلمة</td> <td>اعرابها</td> </tr> <tr> <td>مل</td> <td>فعل ماض مبني على الفتح</td> </tr> <tr> <td>العشاء</td> <td>مضاف إليه مجرور وعلامة جره الكسرة الظاهرة على آخره</td> </tr> <tr> <td>تقننوا</td> <td>فعل مضارع منصوب بأن وعلامة نصبه حذف النون لأنه من الأفعال الخمسة و واو الجماعة ضمير متصل مبني في محل رفع فاعل .</td> </tr> </table> <p>2 / <u>التحويل مع المفردة المخاطبة :</u> باستطاعتك أن تستعيدي قراءتها إن أردتي يا صديقتي فما عليك إلا أن تقنني الكتاب الذي تضمنها .</p> <p>4 / <u>تعليل الهمزة</u></p> <table border="1"> <tr> <td>الكلمة</td> <td>نوع الهمزة</td> <td>التعليل</td> </tr> <tr> <td>قِرَاءَتِهَا</td> <td>متوسطة على السطر</td> <td>لأنها مفتوحة بعد مد ساكن</td> </tr> </table>	الكلمة	اعرابها	مل	فعل ماض مبني على الفتح	العشاء	مضاف إليه مجرور وعلامة جره الكسرة الظاهرة على آخره	تقننوا	فعل مضارع منصوب بأن وعلامة نصبه حذف النون لأنه من الأفعال الخمسة و واو الجماعة ضمير متصل مبني في محل رفع فاعل .	الكلمة	نوع الهمزة	التعليل	قِرَاءَتِهَا	متوسطة على السطر	لأنها مفتوحة بعد مد ساكن
الكلمة	اعرابها															
مل	فعل ماض مبني على الفتح															
العشاء	مضاف إليه مجرور وعلامة جره الكسرة الظاهرة على آخره															
تقننوا	فعل مضارع منصوب بأن وعلامة نصبه حذف النون لأنه من الأفعال الخمسة و واو الجماعة ضمير متصل مبني في محل رفع فاعل .															
الكلمة	نوع الهمزة	التعليل														
قِرَاءَتِهَا	متوسطة على السطر	لأنها مفتوحة بعد مد ساكن														
نقطة واحدة للتوظيف 0.5 لكل خطوة من الخطوات المتبقية	4 نقاط	<p><u>ج/ الوضعية الإدماجية :</u></p> <p>- أن يكتب المتعلم قفزة من 08 إلى 12 سطرا . - أن تكون الأفكار مترابطة . - التحدث عن كيفية تنظيم الوقت - أن يوظف المتعلم علامات الوقف وبياض الفقرات (مقدمة ، عرض ، خاتمة) - أن يوظف المتعلم الشواهد (آية ، حديث ، حكمة) . - توظيف فعل صحيح سالم وجمع تكسير .</p>														